

ڈرائیونگ لائسنسنگ اتھارٹی



آزاد جموں و کشمیر پولیس منظر آباد

## طریقہ کار برائے تھیوریٹیکل ٹیسٹ

- ❖ ٹیسٹ کمپیوٹر پر بذریعہ ٹیچ سکرین لیا جائے گا۔
- ❖ ٹیسٹ 20 سوالات پر مشتمل ہوگا جس کو دو حصوں میں تقسیم کیا گیا ہے۔
- ❖ 1 سائن ٹیسٹ:- امیدوار کو 10 میں سے 9 سوالات کے درست جوابات دینے ہوں گے۔
- ❖ 2 رولز ٹیسٹ:- امیدوار کو 10 میں سے 7 سوالات کے درست جوابات دینے ہوں گے۔
- ❖ ٹیسٹ کے دونوں حصوں کیلئے کل وقت 10 منٹ ہوگا۔
- ❖ امیدوار تھیوریٹیکل ٹیسٹ میں فیل ہو جانے کی صورت میں دوبارہ کم از کم 14 دن کے بعد ٹیسٹ کیلئے تشریف لاسکتا ہے۔
- ❖ ان پڑھ امیدوار کے لیے آڈیو کی سہولت موجود ہے۔
- ❖ امیدوار لرنر پرمٹ حاصل کرنے کے کم از کم 42 دن کے بعد پریکٹیکل ڈرامیونگ ٹیسٹ کیلئے تشریف لاسکتا ہے۔
- ❖ امیدوار پریکٹیکل ڈرامیونگ ٹیسٹ کے لیے آنے سے پہلے لرنر پرمٹ کی پشت پر درج ہدایات کو غور سے پڑھ کر تشریف لائے۔
- ❖ ڈرامیونگ لائسنس کی Conversion کی صورت میں تھیوریٹیکل ٹیسٹ پاس کرنے کے بعد امیدوار اسی دن پریکٹیکل ڈرامیونگ ٹیسٹ دے سکتا ہے۔

### پیش لفظ

یہ ہم سب کیلئے لکھ کر یہ ہے کہ آزاد کشمیر میں ہر سال کئی سو سے زائد افراد سڑک کے حادثات میں اپنی قیمتی جانیں گنوا بیٹھتے ہیں۔ آزاد کشمیر پولیس کئی سالوں سے ان حادثات کی وجوہات کا جائزہ لیتی رہی ہے۔ ان حادثات کی سب سے بڑی وجہ گاڑیوں کے ڈرامیورز حضرات ہیں۔ اگرچہ یہ ڈرامیورز مختلف شعلی لائسنسنگ اتھارٹیز سے باقاعدہ جاری شدہ ڈرامیونگ لائسنس کے حامل ہوتے ہیں۔ لیکن بد قسمتی سے حادثات کی وجوہات سے پتہ چلا ہے کہ یہ ڈرامیورز حضرات ٹریک قوانین سے آگاہی اور شعور بالکل نہیں رکھتے۔ جس سے ظاہر ہوتا ہے کہ لائسنس جاری کرتے وقت ٹیسٹ کا طریقہ کار اور یہ جا رہی تو سمیت کا نہیں ہوتا۔

بد قسمتی سے آزاد کشمیر میں ڈرامیونگ لائسنس کا حامل ہونا مناسب اور مطاب ڈرامیونگ کا ضامن نہیں ہوتا۔ کیونکہ ایسے ڈرامیورز حضرات ڈرامیونگ کے شعور سے نااہل اور اچھی مہارت سے بے بہرہ ہوتے ہیں۔ اور صحیح طریقہ سے تھیوریٹیکل اور پریکٹیکل ٹیسٹ دینے بغیر لائسنس کے حصول میں کامیاب ہو جاتے ہیں۔

اس صورت حال کے پیش نظر آزاد جموں و کشمیر پولیس نے ڈرامیونگ لائسنسنگ اتھارٹی کا قیام عمل میں لایا ہے۔ جس کا مقصد آزاد کشمیر میں ڈرامیونگ کے معیار کو بہتر بنانا ہے۔





آزاد جموں و کشمیر پولیس امیدوار سے تھیوریٹیکل اور پریکٹیکل ٹیسٹ لے کر ڈرامیونگ لائسنس جاری کرتی ہے۔ تھیوریٹیکل ٹیسٹ امیدوار کی ٹریک قوانین سے آگاہی اور شعور جانچنے میں معاون ہوتا ہے۔ تاکہ پتہ چلا جاسکے کہ امیدوار مطلوبہ معیار پر پورا اترتا ہے یا نہیں۔ امیدوار کو مطلوبہ شعور کے حصول کیلئے یہ تھیوریٹیکل ٹیسٹ بک سوالات بعد جوابات تیار کی گئی ہے۔ جو کہ ٹیسٹ کی بہتر تیاری ٹریک قوانین و ٹریک سائن سے آگاہی، اپنی ذمہ داریوں اور دوسروں کے حقوق سمجھنے میں مدد فراہم کرتی ہے۔

میں امید کرتا ہوں کہ یہ کتاب شریوں اور امیدواروں کیلئے تھیوریٹیکل ٹیسٹ کی تیاری کے ساتھ روڈ سٹیجی کو بہتر بنانے میں مددگار ثابت ہوگی۔ ڈرامیورز حضرات کا بہتر شہرت پر بہتر ٹریک کے نظم و نسق کو یقینی بنانے کا اور شہرت پر ہمارے محفوظ اور آرام دہ سفر کے دیرینہ مقصد کے حصول میں معاون ثابت ہوگا۔





### محمد نعیم خان

انچیف جنرل پولیس آزاد جموں و کشمیر





## تھیوریٹیکل ٹیسٹ معروضی سوالات برائے ڈرامیورز لائسنس اپرٹ



a	.a چٹانوں کے گرنے کا خدشہ .b خطرناک پہاڑی راستہ .c اچانک پہاڑوں کا کٹاؤ .d زیادہ ڈھلوان		دیئے گئے نشان کا مطلب ہے	5.
b	.a شدید خطرہ .b تیز ہوا کا علاقہ .c پہاڑی پتھروں کا گرنا .d خطرناک پہاڑی راستہ		دیئے گئے نشان کا مطلب ہے	6.
c	.a نرنگ .b Culvert پل .c محرابی پل .d Overflowing پل		دیئے گئے نشان کا مطلب ہے	7.
d	.a خطرناک پہاڑی راستہ .b پیدل چلنے والوں کو دیکھیں .c بچوں کو دیکھیں .d سڑک پر کام ہو رہا ہے		دیئے گئے نشان کا مطلب ہے	8.

2

نمبر شمار	سوالات	نشان	جوابات	درست جواب
1.	دیئے گئے نشان کا مطلب ہے		.a انتباہی نشان .b ممنوعہ نشان .c اطلاعی نشان .d سستی نشان	a
2.	دیئے گئے نشان کا مطلب ہے		.a ڈھلوان .b چڑھائی .c زیادہ ڈھلوان .d زیادہ چڑھائی	d
3.	دیئے گئے نشان کا مطلب ہے		.a زیادہ ڈھلوان .b زمین کا کٹاؤ .c ڈھلوان .d زیادہ چڑھائی	a
4.	دیئے گئے نشان کا مطلب ہے		.a آگے سڑک تنگ ہے .b روڈ بائیں طرف سے تنگ ہے .c روڈ دائیں طرف سے تنگ ہے .d رفتار کم کریں	a

1

b	<p>a. جانوروں کی گزرگاہ b. مویشیوں کی گزرگاہ c. فارم ہاؤس d. جانوروں سے بچتی جانے والی ریڑھی</p>		13. دیئے گئے نشان کا مطلب ہے
c	<p>a. چوڑا پل b. پل دونوں اطراف سے چوڑا ہے c. تنگ پل d. محرابی پل</p>		14. دیئے گئے نشان کا مطلب ہے
d	<p>a. ریلوے کرائسٹنگ سے گزرنا منع ہے b. پیدل گزرگاہ c. بغیر پھانک ریلوے کرائسٹنگ d. ریلوے پھانک</p>		15. دیئے گئے نشان کا مطلب ہے
a	<p>a. ریلوے کرائسٹنگ بغیر پھانک کے b. داخلہ ممنوع c. ریلوے کرائسٹنگ سے گزرنا ممنوع ہے d. ریلوے پھانک</p>		16. دیئے گئے نشان کا مطلب ہے

c	<p>a. سڑک غیر ہموار ہے b. مکان c. سڑنگ d. گاؤں</p>		9. دیئے گئے نشان کا مطلب ہے
d	<p>a. آگے حادثہ ہے b. داخلہ ممنوع c. زیکے d. دیگر خطرات</p>		10. دیئے گئے نشان کا مطلب ہے
d	<p>a. بائیں یا دائیں مڑ سکتے ہیں b. داخلہ ممنوع c. دو طرفہ ٹریفک d. آگے چھوٹی سڑک، بڑی سڑک کو کراس کر رہی ہے</p>		11. دیئے گئے نشان کا مطلب ہے
a	<p>a. غیر ہموار سڑک b. محرابی پل c. سڑنگ d. سڑک کے کنارے</p>		12. دیئے گئے نشان کا مطلب ہے






21.	دیئے گئے نشان کا مطلب ہے		a. سڑک استعمال نہیں کر سکتے b. اوور ٹیکنگ منع ہے c. اوور ٹیکنگ کی پابندی اٹھانی گئی ہے d. اوور ٹیکنگ کی اجازت ہے
22.	دیئے گئے نشان کا مطلب ہے		a. بائیں طرف مڑ سکتے ہیں b. بائیں مڑنا منع ہے c. بائیں یوٹرن کی اجازت ہے d. بائیں طرف لین کی تبدیلی منع ہے
23.	دیئے گئے نشان کا مطلب ہے		a. بارن کی پابندی اٹھالی گئی ہے b. بارن کی اجازت ہے c. ریڈیو کا سننا ممنوع ہے d. بارن کا استعمال منع ہے
24.	دیئے گئے نشان کا مطلب ہے		a. 3 میٹر سے چوڑی گاڑیوں کا داخلہ ممنوع ہے b. لمبائی کی حد 3 میٹر ہے c. چوڑائی کی حد اٹھالی گئی ہے d. پل کی چوڑائی محدود ہے۔

6

17.	دیئے گئے نشان کا مطلب ہے		a. سائیکل کا گزرنا منع ہے b. سائیکل سوار c. سائیکل کی پارکنگ d. سائیکل کا داخلہ ممنوع
18.	دیئے گئے نشان کا مطلب ہے		a. بائیں طرف سے آسکتے ہیں b. آگے دو طرف مڑنا ہے c. دائیں طرف سے آسکتے ہیں d. کسی طرف سے آنا منع ہے
19.	دیئے گئے نشان کا مطلب ہے		a. دائیں طرف مڑ سکتے ہیں b. دائیں لین تبدیل کرنا منع ہے c. یوٹرن لینا منع ہے d. دائیں مڑنا منع ہے
20.	دیئے گئے نشان کا مطلب ہے		a. یوٹرن لینا منع ہے b. بائیں مڑنا منع ہے c. یوٹرن لے سکتے ہیں d. بائیں مڑ سکتے ہیں

5





c	<p>a. بڑی بسوں کا داخلہ منع ہے</p> <p>b. HTV کا داخلہ منع ہے</p> <p>c. گاڑیوں کا داخلہ منع ہے</p> <p>d. LTV کا داخلہ منع ہے</p>		دیئے گئے نشان کا مطلب ہے	29.
c	<p>a. بڑی بسوں کا داخلہ منع ہے</p> <p>b. موٹر کار کا داخلہ منع ہے</p> <p>c. مال بردار گاڑیوں کا داخلہ منع ہے</p> <p>d. LTV کا داخلہ منع ہے</p>		دیئے گئے نشان کا مطلب ہے	30.
a	<p>a. سیدھا جائیں</p> <p>b. داخل ہونا منع ہے</p> <p>c. ایک طرف جائیں</p> <p>d. رُک جائیں</p>		دیئے گئے نشان کا مطلب ہے	31.
d	<p>a. دائیں مڑ جائیں</p> <p>b. دائیں طرف چلیں</p> <p>c. بائیں طرف چلیں</p> <p>d. بائیں مڑ جائیں</p>		دیئے گئے نشان کا مطلب ہے	32.

b	<p>a. گاڑیوں کا فاصلہ محدود ہے</p> <p>b. 3.5 میٹر سے اونچی گاڑیوں کا داخلہ ممنوع ہے</p> <p>c. چوڑائی کی حد 3.5 میٹر ہے</p> <p>d. لمبائی کی پابندی اٹھائی گئی ہے</p>		دیئے گئے نشان کا مطلب ہے	25.
c	<p>a. وزن محدود ہے</p> <p>b. سڑک کا نمبر 40 ہے</p> <p>c. زیادہ سے زیادہ حد رفتار 40 کلومیٹر ہے</p> <p>d. حد رفتار 40 کلومیٹر کی پابندی اٹھائی گئی ہے</p>		دیئے گئے نشان کا مطلب ہے	26.
d	<p>a. وزن محدود ہے</p> <p>b. سڑک کا نمبر 40 ہے</p> <p>c. حد رفتار 40 کلومیٹر ہے</p> <p>d. حد رفتار 40 کلومیٹر کی پابندی اٹھائی گئی ہے</p>		دیئے گئے نشان کا مطلب ہے	27.
c	<p>a. ایکسل کا وزن محدود ہے</p> <p>b. لمبائی کی حد 6 میٹر ہے</p> <p>c. سنگل ایکسل پر 6 ٹن سے زائد وزن والی گاڑی کا داخلہ منع ہے</p> <p>d. چوڑائی محدود ہے</p>		دیئے گئے نشان کا مطلب ہے	28.




## ڈرائیورز لائسنسنگ اتھارٹی

33.	دیئے گئے نشان کا مطلب ہے		.a. دائیں مڑ جائیں .b. ایک طرف جائیں .c. دائیں طرف چلیں .d. بائیں طرف چلیں	a
34.	دیئے گئے نشان کا مطلب ہے		.a. سیدھا جائیں یا دائیں مڑ جائیں .b. سیدھا جائیں یا بائیں مڑ جائیں .c. لین کے ساتھ چلیں .d. آگے سے بائیں مڑ جائیں	b
35.	دیئے گئے نشان کا مطلب یہ ہے کہ		.a. سیدھا جائیں .b. لین کے ساتھ چلیں .c. بائیں چلیں .d. بائیں طرف مڑ جائیں	c
36.	دیئے گئے نشان کا مطلب یہ ہے کہ		.a. بائیں طرف مڑنا منع ہے .b. دائیں طرف مڑنا منع ہے .c. یوٹرن لینا منع ہے .d. داخلہ ممنوع ہے	d



## ڈرائیورز لائسنسنگ اتھارٹی

37.	دیئے گئے نشان کا مطلب یہ ہے کہ		.a. دائیں چلیں .b. دائیں طرف رُک جائیں .c. دائیں طرف مڑ جائیں .d. بائیں طرف چلیں	a
38.	دیئے گئے نشان کا مطلب ہے		.a. لین میں داخلہ منع ہے .b. سیدھا جانے والی لین .c. یکطرفہ سڑک .d. تیز چلنے والی لین	b
39.	دیئے گئے نشان میں یہ لینیں واضح کرتی ہیں کہ		.a. سیدھا جائیں اور بائیں مڑ جائیں .b. مڑیں اور بائیں جائیں .c. موزوں لین اختیار کریں .d. سیدھا جائیں اور دائیں مڑ جائیں	c
40.	دیئے گئے نشان میں یہ لین واضح کرتی ہے کہ		.a. سیدھا جائیں یا دائیں مڑ جائیں .b. آگے سے دائیں جانب مڑ جائیں .c. سیدھا جائیں یا بائیں جانب مڑ جائیں .d. آگے سے بائیں جانب مڑ جائیں	a

## ڈرائیورز لائسنسنگ امتحانی

d	<p>a. گاڑیوں کی گزرگاہ یا روڈ لائن</p> <p>b. لین کی تبدیلی ممنوع ہے</p> <p>c. درمیانی لائن</p> <p>d. سڑک کو لین میں تقسیم کرنے والی لائن</p>		<p>46. درج ذیل تصویر میں سفید لائن واضح کرتی ہے کہ</p>	
d	<p>a. کیرج دے کو ایک ہی سمت میں تقسیم کرتی ہے</p> <p>b. روڈ کے کنارے کو واضح کرتی ہے</p> <p>c. گاڑیوں کو اوور ٹیکنگ کی اجازت ہے</p> <p>d. لائن کو کراس کرنا منع ہے</p>		<p>47. دی گئی تصویر میں مسلسل پیلی لائن واضح کرتی ہے کہ</p>	
a	<p>a. اسٹاپ لائن</p> <p>b. راستہ دینے کی لائن</p> <p>c. آہستہ کرنے اور راستہ دینے کی لائن</p> <p>d. ممنوعہ علاقہ کی نشاندہی کرنے والی لائن</p>		<p>48. تصویر میں تیر کے نشان سے واضح سفید لائن کو کیا کہتے ہیں</p>	

## ڈرائیورز لائسنسنگ امتحانی

c	<p>a. طالب علموں کی گزرگاہ</p> <p>b. پیدل چلنے والوں کی گلی</p> <p>c. پیدل چلنے والوں کے گزرنے کا راستہ</p> <p>d. بچوں کی گزرگاہ</p>		<p>41. دیئے گئے نشان میں یہ جگہ واضح کرتی ہے کہ</p>	41.
a	<p>a. پارکنگ کی جگہ</p> <p>b. سروس ایریا</p> <p>c. پارکنگ کی ممانعت</p> <p>d. آگے روڈ بند ہے</p>		<p>42. دیئے گئے نشان کا مطلب ہے کہ</p>	42.
b	<p>a. ”ٹی“ شکل کا انٹریکشن</p> <p>b. آگے روڈ بند ہے</p> <p>c. آگے انٹریکشن ہے</p> <p>d. پارکنگ ایریا</p>		<p>43. دیئے گئے نشان کا مطلب ہے</p>	43.
a	<p>a. درست</p> <p>b. غلط</p> <p>c. مجھے معلوم نہیں</p> <p>d. ان میں سے کوئی بھی نہیں</p>		<p>44. دیا گیا نشان بچوں کی گزرگاہ کو واضح کرتا ہے</p>	44.
a	<p>a. غلط</p> <p>b. درست</p> <p>c. ان میں سے کوئی بھی نہیں</p> <p>d. مجھے معلوم نہیں</p>		<p>45. دیا گیا نشان اس بات کو واضح کرتا ہے کہ تمام گاڑیاں لازمی دائیں طرف مڑیں</p>	45.



## ڈرائیورز لائسنسنگ امتحانی

## ڈرائیورز لائسنسنگ امتحانی

b	<p>a. سٹاپ لائن</p> <p>b. درمیانی لائن</p> <p>c. پیدل گزرنے کی لائن</p> <p>d. لائن کو کراس کرنا منع ہے</p>		<p>52. تصویر میں سڑک پر موجود نشاندہی ظاہر کرتی ہے کہ</p>
a	<p>a. درست</p> <p>b. ان میں سے کوئی بھی نہیں</p> <p>c. غلط</p> <p>d. مجھے معلوم نہیں</p>		<p>53. تصویر کے درمیان میں جو پیلا جکشن باکس ہے اس پر گاڑی روکنے کی اجازت نہیں ہے</p>
b	<p>a. آہستہ رکنے کا اشارہ</p> <p>b. سامنے سے آنے والی گاڑیوں کو رکنے کا اشارہ</p> <p>c. مڑنے کا اشارہ</p> <p>d. بغیر رکنے جانے کا اشارہ</p>		<p>54. تصویر میں ٹریفک پولیس کے اشارے کا مطلب ہے کہ</p>
a	<p>a. درست</p> <p>b. غلط</p> <p>c. مجھے معلوم نہیں</p> <p>d. ان میں سے کوئی بھی نہیں</p>		<p>55. تصویر میں ٹریفک پولیس کے اشارے کا مطلب ہے کہ پیچھے سے آنے والی ٹریفک رُک جائے</p>
b	<p>a. ایک لائن</p> <p>b. موٹروے سے نکلنے کا فاصلہ 300 میٹر ہے</p> <p>c. تین لائیں</p> <p>d. روڈ کے درمیان تین لائیں</p>		<p>56. اس نشان کا کیا مطلب ہے؟</p>

## ڈرائیورز لائسنسنگ امتحانی

d	<p>a. سڑک کی درمیانی لائن</p> <p>b. لائن کو تقسیم کرنے والی لائن</p> <p>c. گزرنے کی لائن</p> <p>d. اگر مخالف سمت سے کوئی گاڑی نہ آ رہی ہو تو اوور ٹیکنگ کی اجازت ہے</p>		<p>49. تصویر میں سڑک پر موجود نشاندہی ظاہر کرتی ہے کہ</p>
c	<p>a. سڑک کی درمیانی لائن</p> <p>b. لائن کو تقسیم کرنے والی لائن</p> <p>c. اوور ٹیکنگ ممنوع ہے</p> <p>d. اوور ٹیکنگ کی اجازت ہے</p>		<p>50. تصویر میں سڑک پر موجود نشاندہی ظاہر کرتی ہے کہ</p>
a	<p>a. درمیانی لائن، اوور ٹیکنگ ممنوع ہے</p> <p>b. لائن کو تقسیم کرنے والی لائن</p> <p>c. گزرنے کی لائن</p> <p>d. اگر مخالف سمت سے گاڑی نہ آ رہی ہو تو اوور ٹیکنگ کی اجازت ہے</p>		<p>51. تصویر میں سڑک پر موجود نشاندہی ظاہر کرتی ہے کہ</p>



نمبر شمار	سوالات	نشان	جوابات	درست جواب
1	دینے گئے نشان کا مطلب ہے		۱۔ اور ٹیک منع ہے ۲۔ اور ٹیک کر سکتے ہیں ۳۔ آگے نکل سکتے ہیں ۴۔ ان میں سے کوئی نہیں	1
2	دینے گئے نشان کا مطلب ہے		۱۔ 9 میٹر سے لمبی گاڑیاں داخل ہو سکتی ہیں ۲۔ 9 میٹر سے کم لمبائی والی گاڑیاں داخل ہو سکتی ہیں ۳۔ 9 میٹر سے اونچی گاڑیاں داخل ہو سکتی ہیں ۴۔ 9 میٹر سے کم اونچائی والی گاڑیاں داخل ہو سکتی ہیں	2
3	دینے گئے نشان کا مطلب ہے		۱۔ آگے پولیس چوکی پر رقتا ریڈھا کر گزر جائیں ۲۔ آگے پولیس چوکی پر پارن دیں ۳۔ آگے پولیس چوکی ہے رکھیے ۴۔ ان میں کوئی نہیں	3
4	دینے گئے نشان کا مطلب ہے		۱۔ صرف 8.6 فٹ سے کم چوڑائی والی گاڑیاں داخل ہو سکتی ہیں ۲۔ صرف 8.6 سے زیادہ چوڑائی والی گاڑیاں داخل ہو سکتی ہیں ۳۔ صرف 8.6 سے زیادہ اونچائی والی گاڑیاں داخل ہو سکتی ہیں ۴۔ صرف 8.6 سے کم اونچائی والی گاڑیاں داخل ہو سکتی ہیں	1
5	دینے گئے نشان کا مطلب ہے		۱۔ یہاں پارکنگ کی اجازت ہے ۲۔ یہاں پارکنگ منع ہے ۳۔ تھوڑے سا ٹیم کے لئے پارک کر سکتے ہیں ۴۔ ان میں سے کوئی نہیں	2
6	دینے گئے نشان کا مطلب ہے		۱۔ جانوروں سے کھنچی جانے والی گاڑیوں کا داخلہ ممنوع ہے ۲۔ ہاتھریز کی داخلہ ممنوع ہے ۳۔ ہاتھریز کے داخلہ کی اجازت ہے ۴۔ جانوروں سے کھنچی جانے والی گاڑیوں کے داخلے کی اجازت ہے	2
7	دینے گئے نشان کا مطلب ہے		۱۔ سائیکل سوار کا داخلہ ممنوع ہے ۲۔ موٹر کار کا داخلہ ممنوع ہے ۳۔ موٹر سائیکل کا داخلہ ممنوع ہے ۴۔ سائیکل سوار کو داخلہ کی اجازت ہے	1

8	دینے گئے نشان کا مطلب ہے		۱۔ 7 فٹ تک اونچائی کی گاڑیاں داخلہ ہو سکتی ہیں ۲۔ 7 فٹ تک چوڑی گاڑیاں داخلہ ہو سکتی ہیں ۳۔ 7 ٹن لیڈن وزن سے زیادہ گاڑیوں کا داخلہ ممنوع ہے ۴۔ وزن کی کوئی پابندی نہیں	3
9	دینے گئے نشان کا مطلب ہے		۱۔ 16.6 سے چوڑائی والی گاڑیاں داخل ہو سکتی ہیں ۲۔ 16.6 سے کم چوڑائی والی گاڑیاں داخل ہو سکتی ہیں ۳۔ 16.6 سے کم اونچائی والی گاڑیاں داخل ہو سکتی ہیں ۴۔ 16.6 سے زیادہ اونچائی والی گاڑیاں داخل ہو سکتی ہیں	3
10	دینے گئے نشان کا مطلب ہے		۱۔ پیڈل چلنے والوں کی گزرگاہ ۲۔ پیڈل چل کر گزرنے کا راستہ نہیں ہے ۳۔ بچوں کے پیڈل گزرنے کا راستہ ۴۔ اس میں سے کوئی نہیں	2
11	دینے گئے نشان کا مطلب ہے		۱۔ بڑی گاڑی کا داخلہ منع ہے ۲۔ چھوٹی گاڑی کا داخلہ منع ہے ۳۔ بڑی گاڑی داخل ہو سکتی ہے ۴۔ اور ٹیک منع ہے۔	1
12	دینے گئے نشان کا مطلب ہے		۱۔ موٹر سائیکل سوار کو داخلہ کی اجازت ہے ۲۔ موٹر سائیکل سوار کا داخلہ منع ہے ۳۔ ہیلمٹ کے بغیر موٹر سائیکل سوار کا داخلہ منع ہے ۴۔ ان میں سے کوئی نہیں	2
13	دینے گئے نشان کا مطلب ہے		۱۔ سڑک کھلی ہے ۲۔ سڑک پر کام ہو رہا ہے ۳۔ سڑک بند ہے ۴۔ سڑک پر کام نہیں ہو رہا	3
14	دینے گئے نشان کا مطلب ہے		۱۔ اپنی رفتار سے گاڑی چلا جا رہی ہیں ۲۔ اپنی رفتار کم کریں ۳۔ گاڑی روک دیں ۴۔ گاڑی کی رفتار اور بڑھا دیں	2
15	دینے گئے نشان کا مطلب ہے		۱۔ موٹر گاڑی کا داخلہ ممنوع ہے ۲۔ جانور گاڑی کا داخلہ ممنوع ہے ۳۔ جانور گاڑی داخل ہو سکتی ہے ۴۔ تمام گاڑیوں کا داخلہ ممنوع ہے	2



1	<p>۱۔ سرے پر سڑک بند ہے</p> <p>۲۔ سرے پر سڑک کھلی ہے</p> <p>۳۔ سڑک دائیں طرف سے بند ہے</p> <p>۴۔ سڑک بائیں طرف سے بند ہے</p>		دینے گئے نشان کا مطلب ہے	24
3	<p>۱۔ آگے سڑک بند ہے</p> <p>۲۔ آگے سڑک کھلی ہے</p> <p>۳۔ مت رکیں سڑک خالی رکھیں</p> <p>۴۔ ان میں سے کوئی نہیں</p>		دینے گئے نشان کا مطلب ہے	25
1	<p>۱۔ لین کنٹرول سائن بورڈ اپنی لین میں رہیں</p> <p>۲۔ صرف دائیں مڑیں</p> <p>۳۔ صرف بائیں مڑیں</p> <p>۴۔ ان میں سے کوئی نہیں</p>		دینے گئے نشان کا مطلب ہے	26
3	<p>۱۔ دائیں مڑیں</p> <p>۲۔ سیدھا جائیں</p> <p>۳۔ سمت کا سائن بورڈ</p> <p>۴۔ ان میں سے کوئی نہیں</p>		دینے گئے نشان کا مطلب ہے	27
1	<p>۱۔ صرف دائیں والی ٹریفک کے چلنے کا اشارہ</p> <p>۲۔ صرف بائیں والی ٹریفک کے چلنے کا اشارہ</p> <p>۳۔ صرف سیدھا جانے والی ٹریفک کے چلنے کا اشارہ</p> <p>۴۔ ان میں سے کوئی نہیں</p>		دینے گئے نشان کا مطلب ہے	28
1	<p>۱۔ روکنے کے لیے تیار ہوں</p> <p>۲۔ سپیڈ اور تیز کریں</p> <p>۳۔ مت رکیں</p> <p>۴۔ فوراً ایک لگا دیں</p>		دینے گئے نشان کا مطلب ہے	29
1	<p>۱۔ زہرا آکرا سبک، ان لیکروں پر گاڑی روکنا منع ہے</p> <p>۲۔ زہرا آکرا سبک پر گاڑی کھڑی کر سکتے ہیں</p> <p>۳۔ بس سٹاپ کاسٹا ان ہے</p> <p>۴۔ ان میں سے کوئی نہیں</p>		دینے گئے نشان کا مطلب ہے	30

3	<p>۱۔ آگے خطرہ نہیں ہے</p> <p>۲۔ آگے رفتار کم کریں</p> <p>۳۔ آگے خطرہ ہے</p> <p>۴۔ آگے ٹپا ہے</p>		دینے گئے نشان کا مطلب ہے	16
1	<p>۱۔ سامنے بڑی سڑک ہے</p> <p>۲۔ سامنے چھوٹی سڑک ہے</p> <p>۳۔ سامنے مزاحمت ہے</p> <p>۴۔ آگے خطرہ ہے</p>		دینے گئے نشان کا مطلب ہے	17
2	<p>۱۔ چلنے کا اشارہ</p> <p>۲۔ ٹھہرنے کا اشارہ</p> <p>۳۔ رفتار کم کرنے کا اشارہ</p> <p>۴۔ رفتار بڑھانے کا اشارہ</p>		دینے گئے نشان کا مطلب ہے	18
3	<p>۱۔ صرف سیدھا</p> <p>۲۔ سیدھا اور بائیں</p> <p>۳۔ سیدھا اور دائیں</p> <p>۴۔ صرف بائیں</p>		دینے گئے نشان کا مطلب ہے	19
4	<p>۱۔ صرف آگے</p> <p>۲۔ صرف دائیں</p> <p>۳۔ صرف سیدھا</p> <p>۴۔ صرف بائیں</p>		دینے گئے نشان کا مطلب ہے	20
1	<p>۱۔ آگے دوہری سڑک شروع ہے</p> <p>۲۔ آگے دوہری سڑک ختم ہے</p> <p>۳۔ آگے ون وے ہے</p> <p>۴۔ آگے موڑ ہے</p>		دینے گئے نشان کا مطلب ہے	21
4	<p>۱۔ آگے خطرہ ہے</p> <p>۲۔ آگے خطرہ نہیں ہے</p> <p>۳۔ آگے گول پکڑیں</p> <p>۴۔ آگے گول پکڑنے والے ہے</p>		دینے گئے نشان کا مطلب ہے	22
3	<p>۱۔ دائیں نکلنے والی سڑک بند ہے</p> <p>۲۔ سرے پر سڑک بند ہے</p> <p>۳۔ بائیں نکلنے والی سڑک آگے بند ہے</p> <p>۴۔ بائیں نکلنے والی سڑک آگے کھلی ہے</p>		دینے گئے نشان کا مطلب ہے	23



2	۱۔ آگے سڑک بند ہے ۲۔ لازمی گول چکر داخل ہونے سے قبل دائیں طرف سے آنے والی ٹریفک کو کلیئر ہونے دیں ۳۔ لازمی گول چکر ہے بغیر دیکھے آگے رہیں ۴۔ آگے جانا منع ہے		دینے گئے نشان کا مطلب ہے	31
2	۱۔ گول چکر بائیں سے آنے والی ٹریفک کو راستہ دیں ۲۔ گول چکر، دائیں سے آنے والی ٹریفک کو راستہ دیں ۳۔ آگے سڑک بند ہے ۴۔ ان میں سے کوئی نہیں		دینے گئے نشان کا مطلب ہے	32
4	۱۔ چھوٹی سڑک دائیں جانب سے آکر ملتی ہے۔ ۲۔ دائیں طرف خطرہ ہے۔ ۳۔ بائیں طرف خطرہ ہے۔ ۴۔ چھوٹی سڑک بائیں جانب آکر ملتی ہے		دینے گئے نشان کا مطلب ہے	33
2	۱۔ چھوٹی سڑک بائیں جانب سے آکر ملتی ہے۔ ۲۔ چھوٹی سڑک دائیں جانب سے آکر ملتی ہے۔ ۳۔ بائیں سڑک سے آکر ملتی ہے۔ ۴۔ دائیں سڑک سے آکر ملتی ہے۔		دینے گئے نشان کا مطلب ہے	34
3	۱۔ پہلے دائیں اور پھر بائیں سمت سے چھوٹی سڑکیں ملتی ہیں۔ ۲۔ دائیں موڑنا لازمی ہے۔ ۳۔ پہلے بائیں پھر دائیں سمت سے چھوٹی سڑکیں ملتی ہیں۔ ۴۔ بائیں موڑنا لازمی ہے۔		دینے گئے نشان کا مطلب ہے	35
1	۱۔ ایسے چوراہے پر راستہ کا حق ان گاڑیوں کا ہے جو دائیں سے آئیں۔ ۲۔ ایسے چوراہے پر راستہ کا حق ان گاڑیوں کا ہے جو بائیں سے آئیں۔ ۳۔ ایسے چوراہے پر راستہ کا حق ان کا ہے جو پیچھے سے آئیں۔ ۴۔ ان میں سے کوئی نہیں۔		دینے گئے نشان کا مطلب ہے	36
1	۱۔ چھوٹی سڑک بائیں جانب ہے۔ ۲۔ چھوٹی سڑک دائیں جانب ہے۔ ۳۔ بائیں موڑنا لازمی ہے۔ ۴۔ سیدھا جانا لازمی ہے۔		دینے گئے نشان کا مطلب ہے	37


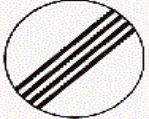


4	۱۔ دائیں موڑنا لازمی ہے۔ ۲۔ بائیں موڑنا لازمی ہے۔ ۳۔ چھوٹی سڑک بائیں سمت سے آکر ملتی ہے۔ ۴۔ چھوٹی سڑک دائیں سمت سے آکر ملتی ہے۔		دینے گئے نشان کا مطلب ہے	38
2	۱۔ دائیں سمت سے چھوٹی سڑک ملتی ہے۔ ۲۔ بائیں سمت سے چھوٹی سڑک ملتی ہے۔ ۳۔ بائیں موڑنا منع ہے۔ ۴۔ دائیں موڑنا منع ہے۔		دینے گئے نشان کا مطلب ہے	39
1	۱۔ ایسے چوراہے پر راستہ کا حق ان گاڑیوں کا ہے جو دائیں سے آئیں۔ ۲۔ ایسے چوراہے پر راستہ کا حق ان گاڑیوں کا ہے جو بائیں سے آئیں۔ ۳۔ آگے سڑک بند ہے۔ ۴۔ آگے سڑک ختم ہو رہی ہے۔		دینے گئے نشان کا مطلب ہے	40
2	۱۔ ایک طرف ٹریفک۔ ۲۔ دوطرفہ ٹریفک۔ ۳۔ آگے لہا ہے۔ ۴۔ اور ٹریفک کر سکتے ہیں۔		دینے گئے نشان کا مطلب ہے	41
1	۱۔ آگے ہوائی اڈہ ہے۔ ۲۔ آگے ہوائی اڈہ نہیں ہے۔ ۳۔ دائیں طرف موڑ سکتے ہیں۔ ۴۔ آگے خطرہ ہے۔		دینے گئے نشان کا مطلب ہے	42
2	۱۔ آگے سڑک بند ہے۔ ۲۔ ترقی والے اشارے۔ ۳۔ آگے ٹریفک زیادہ ہے۔ ۴۔ آگے خطرہ موجود ہے۔		دینے گئے نشان کا مطلب ہے	43
4	۱۔ واپس نہیں موڑنا۔ ۲۔ واپس موڑنا لازمی ہے۔ ۳۔ آگے سڑک بند ہے۔ ۴۔ واپس موڑ سکتے ہیں۔		دینے گئے نشان کا مطلب ہے	44
2	۱۔ بڑھی سڑک۔ ۲۔ بھٹکنے والی سڑک۔ ۳۔ برف باری والی سڑک۔ ۴۔ ان میں کوئی نہیں۔		دینے گئے نشان کا مطلب ہے	45





3	<p>۱- صرف بائیں مڑیں</p> <p>۲- صرف دائیں مڑیں</p> <p>۳- لین کنٹرول سائن بورڈ اپنی لین میں رہیں</p> <p>۴- صرف سیدھا جا سکتے ہیں</p>		دیئے گئے نشان کا مطلب ہے	54
3	<p>۱- اوور ٹیکنگ منع ہے</p> <p>۲- آگے سنگل سڑک ہے</p> <p>۳- اوور ٹیکنگ پر جانک پابندی ختم ہے</p> <p>۴- آگے سڑک ڈبل ہے</p>		دیئے گئے نشان کا مطلب ہے	55
2	<p>۱- حد رفتار 50 کلومیٹر فی گھنٹہ ہے</p> <p>۲- 50 کلومیٹر فی گھنٹہ کی حد رفتار کی پابندی ختم ہے</p> <p>۳- 50 کلومیٹر فی گھنٹہ حد رفتار کی پابندی ہے</p> <p>۴- ان میں سے کوئی نہیں</p>		دیئے گئے نشان کا مطلب ہے	56
3	<p>۱- سیدھا اور بائیں</p> <p>۲- سیدھا اور دائیں</p> <p>۳- صرف بائیں مڑیں</p> <p>۴- صرف دائیں مڑیں</p>		دیئے گئے نشان کا مطلب ہے	57
3	<p>۱- داخل ہونا منع ہے</p> <p>۲- بکس چوک اس چوک میں زرد لائنوں پر رکنا منع ہے</p> <p>۳- بکس چوک اس چوک میں زرد لائنوں پر رکنے کی اجازت ہے</p> <p>۴- ان میں سے کوئی نہیں</p>		دیئے گئے نشان کا مطلب ہے	58
1	<p>۱- پہلی لکیر کے باہر پارکنگ منع ہے</p> <p>۲- پہلی لکیر کے باہر پارکنگ کی اجازت ہے</p> <p>۳- رکنا منع ہے</p> <p>۴- ان میں سے کوئی نہیں</p>		دیئے گئے نشان کا مطلب ہے	59
3	<p>۱- آگے لہا ہے</p> <p>۲- آگے لہا نہیں</p> <p>۳- آگے موڑ سے شروع ہو رہی ہے</p> <p>۴- ان میں سے کوئی نہیں</p>		دیئے گئے نشان کا مطلب ہے	60

1	<p>۱- رفتار کم کرنے کا ثبوت</p> <p>۲- سڑک پر گھڑے کا نشان</p> <p>۳- رفتار میں تبدیلی نہ کریں</p> <p>۴- ان میں کوئی نہیں</p>		دیئے گئے نشان کا مطلب ہے	46
2	<p>۱- آگے سڑک ٹھیک ہے</p> <p>۲- آگے گڑھا ہے</p> <p>۳- آگے چڑھا ہے</p> <p>۴- آگے سڑک بند ہے</p>		دیئے گئے نشان کا مطلب ہے	47
2	<p>۱- دوہرا موڑ دائیں طرف</p> <p>۲- دوہرا موڑ بائیں طرف</p> <p>۳- صرف دائیں موڑ</p> <p>۴- صرف بائیں موڑ</p>		دیئے گئے نشان کا مطلب ہے	48
4	<p>۱- صرف دائیں موڑ</p> <p>۲- صرف بائیں موڑ</p> <p>۳- دوہرا موڑ بائیں طرف</p> <p>۴- دوہرا موڑ دائیں طرف</p>		دیئے گئے نشان کا مطلب ہے	49
2	<p>۱- جانوروں کیلئے سڑک پار کرنے کی جگہ</p> <p>۲- بچوں کے سڑک پار کرنے کی جگہ</p> <p>۳- پیدل سڑک پار کرنے کا منع ہے</p> <p>۴- پیول چلنا منع ہے</p>		دیئے گئے نشان کا مطلب ہے	50
1	<p>۱- ٹریفک کا پتھر</p> <p>۲- آگے خطرہ ہے</p> <p>۳- آگے روڈ ختم ہو رہی ہے</p> <p>۴- آگے ہوا کا دباؤ ختم ہے</p>		دیئے گئے نشان کا مطلب ہے	51
3	<p>۱- بڑی گاڑیاں اور ٹریک کر سکتی ہیں</p> <p>۲- چھوٹی گاڑیاں اور ٹریک کر سکتی ہیں</p> <p>۳- بڑی گاڑیوں کے لیے اوور ٹیکنگ ممنوع ہے</p> <p>۴- ان میں سے کوئی نہیں</p>		دیئے گئے نشان کا مطلب ہے	52
2	<p>۱- صرف بائیں مڑیں</p> <p>۲- صرف دائیں مڑیں</p> <p>۳- سیدھا جائیں</p> <p>۴- واپس مڑ سکتے ہیں</p>		دیئے گئے نشان کا مطلب ہے	53



1	<p>۱۔ شہر کے اختتام کا نشان</p> <p>۲۔ شہر کے شروع ہونے کا نشان</p> <p>۳۔ آگے سڑک بند ہے</p> <p>۴۔ شہر بند ہے</p>		دیئے گئے نشان کا مطلب ہے	61
3	<p>۱۔ آگے جانا منع ہے</p> <p>۲۔ آگے سڑک بند ہے</p> <p>۳۔ تمام عائد کردہ پابندیاں ختم ہیں</p> <p>۴۔ ان میں سے کوئی نہیں</p>		دیئے گئے نشان کا مطلب ہے	62
1	<p>۱۔ یوٹرن منع ہے</p> <p>۲۔ یوٹرن لے سکتے ہیں</p> <p>۳۔ آگے جانا منع ہے</p> <p>۴۔ دائیں مڑنا منع ہے</p>		دیئے گئے نشان کا مطلب ہے	63
3	<p>۱۔ آگے 50 میٹر پر رکنا ہے</p> <p>۲۔ آگے 50 میٹر تک جا سکتے ہیں</p> <p>۳۔ زیادہ سے زیادہ حد رفتار 50 کلومیٹر فی گھنٹہ</p> <p>۴۔ کم سے کم حد رفتار 50 کلومیٹر فی گھنٹہ</p>		دیئے گئے نشان کا مطلب ہے	64

## ڈرامیورز اسٹینڈ انٹارنی

b	<p>a. پل</p> <p>b. آغاز موٹروے</p> <p>c. مصروف دو طرفہ</p> <p>d. ان میں سے کوئی نہیں</p>		اس نشان کا کیا مطلب ہے	57.
a	<p>a. رکیئے</p> <p>b. رکننا منع ہے</p> <p>c. مجھے پتہ نہیں</p> <p>d. ان میں سے کوئی نہیں</p>		گنٹل کی سرخ الائٹ آن ہونے کا مطلب ہے کہ	58.
c	<p>a. وہ جو دائیں جانب سے آ رہا ہو</p> <p>b. وہ جو گول چکر میں پہلے سے موجود ہو</p> <p>c. دونوں (a) اور (b)</p> <p>d. ان میں سے کوئی نہیں</p>		گول چکر میں Right of Way کس کا ہوتا ہے؟	59.
a	<p>a. چھوٹے گیروں میں تبدیل کر کے</p> <p>b. ریورس گیٹر منتخب کر کے</p> <p>c. بڑے گیروں میں تبدیل کر کے</p> <p>d. نیوٹرل کر کے</p>		آپ اپنی گاڑی کے انجن سے رفتار کیسے کنٹرول کر سکتے ہیں؟	60.
d	<p>a. لائینس</p> <p>b. ریلنگس</p> <p>c. شیشے</p> <p>d. اوپر دیئے گئے سارے</p>		گاڑی کی کوئی چیز ہمیشہ صاف رکھنی چاہیے؟	61.



## ڈرائیورز لائسنسنگ امتحانی

d	.a 100 کلومیٹر فی گھنٹہ .b 80 کلومیٹر فی گھنٹہ .c 70 کلومیٹر فی گھنٹہ .d 120 کلومیٹر فی گھنٹہ	67. موٹر وے پر LTV گاڑی کی حد رفتار کیا ہے؟
a	.a 40 کلومیٹر فی گھنٹہ .b 80 کلومیٹر فی گھنٹہ .c 70 کلومیٹر فی گھنٹہ .d 50 کلومیٹر فی گھنٹہ	68. مسجد اور اسکول کے نزدیک حد رفتار کیا ہے؟
a	.a لازمی ہے .b انتظامی ہے .c فیشن ہے .d دکھاوا ہے	69. سیٹ بیلٹ باندھنا _____
c	.a رُک جائیں اور پیدل چلنے والوں کو ہاتھ بلائیں .b بارن، سبائیں تاکہ پیدل چلنے والوں کو آپکا پتہ چلے .c پیدل گزرنے والوں کو راستہ دیں جو کہ پہلے سے گزر رہے ہیں .d آپ چلنے جائیں تاکہ پیدل چلنے والے آپ کو راستہ دیں	70. آپ روڈ جنکشن سے ایک چھوٹی سڑک پر مڑ رہے ہیں پیدل چلنے والے چھوٹی سڑک کو کراس کر رہے ہیں آپ کیا کریں گے؟
a	.a مدد کریں گئے اور اکیلا .b پانی پینے کے لئے دیں گے	71. حادثہ ہوا ہے اور ڈرائیور صد سے میں ہے آپ کیا کریں گے؟

## ڈرائیورز لائسنسنگ امتحانی

a	.a رُک جائیں .b بھاگ جائیں .c غصے میں آ جائیں .d اوپر دیئے گئے سب	62. کسی ٹریفک حادثے میں ملوث ہونے کے بعد آپ کی پہلی ذمہ داری کیا ہے؟
d	.a جنکشن پر .b موڑ پر یا پہاڑ کی چڑھائی پر .c زہیر آکر اسٹنگ کے شروع پر .d اوپر دیئے گئے سب	63. کونسی جگہ پر پارکنگ دوسروں کے دیکھنے میں رکاوٹ پیدا کر دیتی ہے؟
d	.a برکیں .b لائسنس .c ٹائر .d اوپر دیئے گئے تمام	64. اپنی گاڑی کو قانونی طور پر درست حالت میں رکھنے کے لئے کس چیز کا درست ہونا ضروری ہے؟
c	.a گاڑی کے ٹینک میں کم فیول ہو .b نیٹری کمزور ہو .c ڈرائیور نے سیٹ بیلٹ نہ باندھا ہو .d ان میں سے کوئی نہیں	65. کب حادثے کی صورت میں Air Bag نہیں ٹھکتا؟
c	.a 100 کلومیٹر فی گھنٹہ .b 80 کلومیٹر فی گھنٹہ .c 70 کلومیٹر فی گھنٹہ .d 50 کلومیٹر فی گھنٹہ	66. آبادی والے علاقوں میں حد رفتار کیا ہے؟

a.	بیٹری کا تیزاب	75.	گاڑی کی بیٹری کا پانی کم ہے آپ اس کو کیسے پورا کریں گے
b.	تکے کا پانی		
c.	انجن کا آئل		
d.	انجن کو ٹھنڈا کرنے والا پانی		
a.	ہیڈ لائٹس کا متواتر استعمال	76.	ڈھند میں ڈرامیونگ کیلئے کونسا طریقہ درست ہے؟
b.	سیٹرل لائن کے نزدیک		
c.	زیادہ وقت سفر میں صرف کریں		
d.	آہستہ چلیں		
a.	ہارن بجائیں	77.	آپ ایک بڑی گاڑی کو زیادہ فاصلے سے اوور ٹیک کرنے جا رہے ہیں اور ایک گاڑی آپ کے آگے آجاتی ہے آپ کیا کریں گے؟
b.	مزید فاصلہ پیدا کریں		
c.	ہیڈ لائٹس دیں		
d.	اوور ٹیک کرنا شروع کریں		
a.	یک طرفہ ٹریفک کا	78.	آپ بائیں طرف ایک سائڈ سٹرک پر مڑ رہے ہیں آپ کو کس بات کا خیال رکھنا چاہیے؟
b.	پیدل چلنے والوں کا		
c.	ٹریفک کی زکاوٹ کا		
d.	پارک ہوئی گاڑیوں کا		
a.	موٹروے کو چھوڑ کر محفوظ مقام کو رکنے کے لئے منتخب کریں	79.	موٹروے پر لیے سفر سے تھکاوٹ کی وجہ سے آپ کو تیند آسکتی ہے آپ کو چاہیے کہ _____
b.	ارد گرد کسی پر قضا مقام کو دیکھیں		

c.	کھانا پیش کریں گے	72.	ایک گاڑی اچانک آپ کے سامنے سائڈ روڈ سے آجاتی ہے آپ کیا کریں گے؟
d.	سیگنل پیش کریں گے		
a.	سخت بربیک لگائیں گے		
b.	انسکی غلطی کو نظر انداز کر دیں گے۔ اور قانون پر عمل پیرا رہیں گے		
a.	پچوں کی سیٹ ہر	73.	آپ اپنی گاڑی میں بچے کو لے کر جا رہے ہیں جو کہ تین سال سے کم عمر کا ہے۔ ان میں سے کونسی جگہ بچے کے لئے محفوظ ہے؟
b.	ایک بڑا بچہ کو گود میں لے		
c.	بڑوں کی سیٹ بیلٹ		
d.	بڑوں کی سیٹ		
a.	کیونکہ اس کی لمبائی زیادہ ہوتی ہے اور وقت زیادہ لگتا ہے	74.	کسی بڑی گاڑی کو اوور ٹیک کرنا چھوٹی گاڑی کی نسبت کیوں مشکل ہے؟
b.	یہ اچانک خراب ہو جاتی ہیں		
c.	ان کی بریکیں درست نہیں ہوتیں		
d.	یہ پہاڑ پر بہت سست چڑھتی ہیں		

## ڈرائیورز لائسنسنگ امتحانی

		84.	سنرک پر جانوروں کے پاس سے گزرنے کا کیا ضابطہ ہے؟	a. آہستہ ہو جائیں b. تھوڑا وقت دیں c. ہارن مت دیں d. اوپر دیئے گئے سارے	d
		85.	کیا آپ چھوٹی سنرک سے بڑی سنرک پر گاڑی ریورس کر سکتے ہیں؟	a. نہیں b. ہاں c. معلوم نہیں d. ان میں سے کوئی نہیں	a
		86.	کون موٹروے استعمال نہیں کر سکتا؟	a. سائیکل سوار b. پیدل اشخاص c. جانوروں سے کھینچنے والی گاڑیاں d. اوپر دیئے گئے سارے	d
		87.	ایک غیر مسلسل سفید لائن سے آپ کیا معنی اخذ کرتے ہیں؟	a. وہ لائن جو سڑک کے درمیانی حصے کو تقسیم کرتی ہے اور صرف اسی صورت میں اس کو کراس کرنا چاہیے جب ایسا کرنا محفوظ ہو b. حد رفتار کو ملحوظ خاطر رکھیں c. اوپر دیئے گئے سارے d. مجھے معلوم نہیں	a
		80.	آپ ایک گیلی سنرک پر گاڑی کے پیچھے جا رہے ہیں آپ کم از کم کتنے سیکنڈ کا فاصلہ رکھیں گے؟	a. ایک سیکنڈ b. دو سیکنڈ c. تین سیکنڈ d. چار سیکنڈ	d
		81.	آپ تیز بارش میں سفر کر رہے ہیں آپ کاڑکنے کا فاصلہ _____ ہونا چاہیے؟	a. ڈوگنا b. آدھا c. دس گنا زیادہ d. کوئی مختلف نہیں	a
		82.	آپ اگلے انٹر چینج سے موٹروے کو چھوڑنا چاہتے ہیں۔ اس انٹر چینج پر پہنچنے سے پہلے آپ اپنی گاڑی کس لین میں رکھیں گے؟	a. درمیانی لین میں b. بائیں لین میں c. ہارڈ شوولڈر پر d. کسی بھی لین میں	b
		83.	آپ کب گاڑی نہیں چلا سکتے؟	a. شراب یا کسی دوائی کے زیر اثر b. جب تھکے ہوں یا نیند کی حالت میں c. دونوں "a" اور "b" d. مجھے پتہ نہیں	c

## ڈرائیورز لائسنسنگ امتحانی

		84.	سنرک پر جانوروں کے پاس سے گزرنے کا کیا ضابطہ ہے؟	a. آہستہ ہو جائیں b. تھوڑا وقت دیں c. ہارن مت دیں d. اوپر دیئے گئے سارے	d
		85.	کیا آپ چھوٹی سنرک سے بڑی سنرک پر گاڑی ریورس کر سکتے ہیں؟	a. نہیں b. ہاں c. معلوم نہیں d. ان میں سے کوئی نہیں	a
		86.	کون موٹروے استعمال نہیں کر سکتا؟	a. سائیکل سوار b. پیدل اشخاص c. جانوروں سے کھینچنے والی گاڑیاں d. اوپر دیئے گئے سارے	d
		87.	ایک غیر مسلسل سفید لائن سے آپ کیا معنی اخذ کرتے ہیں؟	a. وہ لائن جو سڑک کے درمیانی حصے کو تقسیم کرتی ہے اور صرف اسی صورت میں اس کو کراس کرنا چاہیے جب ایسا کرنا محفوظ ہو b. حد رفتار کو ملحوظ خاطر رکھیں c. اوپر دیئے گئے سارے d. مجھے معلوم نہیں	a

## ڈرائیورز لائسنسنگ امتحانی

d	.a اپنے اگلے اور پچھلے شیشے دیکھیں گے .b BlindSpot دیکھیں گے .c چلنے سے پہلے آگے دیکھیں گے .d اوپر دیئے گئے سارے	92.	بائیں طرف رکنے کے بعد دوبارہ چلنے سے پہلے آپ کیا کریں گے؟
d	.a بارن بجائیں .b اپنی گاڑی کی ہیڈ لائٹس فُل کریں گے .c اپنی آنکھیں بند کریں گے .d بائیں طرف دیکھیں گے آہستہ ہونگے اگر ضروری ہو تو رُک جائیں گے	93.	سامنے سے پڑنے والی لائٹس کی وجہ سے اگر آپ کو نظر آنا بند ہو گیا ہو تو آپ کیا کریں گے؟
a	.a جب اگلا ڈرائیور دائیں طرف مُڑنا چاہے اور اشارہ دے .b اگر دائیں لین والی گاڑیاں آہستہ ہوں .c جب آپ بائیں مُڑیں .d اوپر دیئے گئے سارے	94.	آپ بائیں جانب سے کب اور ٹیک کر سکتے ہیں؟
a	.a پیڈل اشخاص کے لیے ٹریفک لائٹس .b گول چکر .c آٹے سامنے پارکنگ .d اوپر دیئے گئے سارے	95.	CONTROLLED PEDESTRIAN CROSSING کا کیا مطلب ہے؟

## ڈرائیورز لائسنسنگ امتحانی

d	.a بڑی سڑک کے ایک طرف .b پبلک پارک کے نزدیک .c سڑک کے کنارے پر .d اوپر دیئے گئے سارے	88.	ایسے مقام کا نام بتائیں جہاں آپ گاڑی پارک نہیں کر سکتے
c	.a آرام کے لیے .b موبائل فون کے استعمال کے لیے .c گاڑی خراب ہونے کی صورت میں .d اوپر دیئے گئے تمام	89.	بارڈ شو لڈ رُک استعمال کرنا چاہیے؟
a	.a آپ دائیں طرف سے آنے والی گاڑیوں کو راستہ دیں .b بائیں طرف سے آنے والی گاڑیوں کو راستہ دیں .c ٹریفک کی رفتار میں پیچھا کریں .d اوپر دیئے گئے سارے	90.	گول چکر میں داخل ہونے کا کیا ضابطہ ہے؟
a	.a اسٹاپ لائن سے پہلے رُک جائیں .b نہ رُکیں .c آرام کریں .d اوپر دیئے گئے سارے	91.	پیلی ٹریفک لائٹ کا کیا مطلب ہے

96.	ہائی وے پر کار کی حد رفتار کیا ہے؟	a. 100 کلومیٹر فی گھنٹہ b. 110 کلومیٹر فی گھنٹہ c. 120 کلومیٹر فی گھنٹہ d. اوپر دیئے گئے سارے	a
97.	جنگشن پر جہاں روڈ مارنگ نہ ہو آپ کن گاڑیوں کو براہر اہمیت دیں گے؟	a. تمام گاڑیاں جو آپ کے دائیں طرف سے آئیں b. ٹریفک جو کہ پہلے سے جنگشن میں موجود ہو c. اوپر دیئے گئے سارے d. مجھے معلوم نہیں	c
98.	آپ کو اوور ٹیک کرنے سے پہلے کیا بات ذہن میں رکھنی چاہئے؟	a. آپکا اگلا منظر صاف اور واضح ہو b. ڈبل انڈیکسٹر کا استعمال c. ہارن کا استعمال d. اوپر دیئے گئے سارے	a
99.	جنگشن پہنچنے پر دائیں یا بائیں مڑنے سے پہلے اگر پیدل اشخاص وہاں پہلے سے موجود ہوں تو آپ کیا کریں گے؟	a. آہستہ ہو جائیں انہیں گزرنے دیں b. ہارن دیں اور خود گزر جائیں c. اوپر دیئے گئے سارے d. اوپر دیئے گئے میں سے کوئی نہیں	a

100.	چوک پر آپ کو کہاں رکننا چاہیے؟	a. اسٹاپ لائن سے پہلے b. زمبر اگر اسٹگ پد c. ٹریفک کے درمیان d. اوپر دیئے گئے سارے	a
101.	اگر کوئی گاڑی آپ کو اوور ٹیک کر رہی ہو تو آپ کیا کریں گے؟	a. رفتار بڑھائیں گے b. اسی رفتار سے چلتے رہیں گے c. ہارن دیں گے d. اوپر دیئے گئے سارے	b
102.	سڑک کے درمیان سنگل مسل لائن کا کیا مطلب ہے؟	a. سڑک کو تقسیم کرتی ہے اور اسے کسی صورت میں کراس نہیں کرنا چاہیے b. سڑک کو تقسیم کرتی ہے کراس کر سکتے ہیں c. روڈ فرنیچر d. مجھے معلوم نہیں	a
103.	اوور ٹیکنگ کے بعد آپ کیا نہیں کریں گے؟	a. اچانک سامنے آنا b. آہستہ ہونا c. مذاق کرنا d. اوپر دیئے گئے سارے	d
104.	چند موقعوں کی نشاندہی کریں جب آپ کو ہیڈ لائٹ مدہم کرنی چاہیے	a. تعمیر شدہ علاقوں میں b. ڈھند اور بر فباری میں c. اگلی گاڑی کے انتہائی نزدیک پہنچ کر d. اوپر دیئے گئے سارے	d



## ڈرائیورز لائسنسنگ امتحانی

## ڈرائیورز لائسنسنگ امتحانی

109.	کیا آپ موٹروے پر گاڑی ریورس کر سکتے ہیں؟	a. ہاں b. نہیں c. پتہ نہیں d. اوپر دیئے گئے سارے	b
110.	کیا پیدل اہلخاص کا زبیرا کراسنگ پر سے گزرنے کا پہلا حق ہے؟	a. ہاں b. نہیں c. پتہ نہیں d. اوپر دیئے گئے سارے	a
111.	کیا آپ پیلیچکشن باکس پر رزک کر سکتے ہیں؟	a. ہاں b. نہیں c. پتہ نہیں d. اوپر میں سے کوئی نہیں	b
112.	دوران ڈرائیونگ موبائل فون کا استعمال _____	a. ٹریفک قوانین کی خلاف ورزی ہے b. ایئر چٹنی میں اجازت ہے c. اگر اسٹیکر آن ہو تو اجازت ہے d. اوپر دیئے گئے سارے	a
113.	مسلسل سفید درمیانی لائن نشاندہی کرتی ہے کہ	a. اوور ٹیک کر سکتے ہیں b. اوور ٹیک کرنا ممنوع ہے c. فوراً رزکیں d. بارن استعمال کریں	b

105.	کیا آپ اوور ٹیکنگ کے دوران حد رفتار سے تجاوز کر سکتے ہیں؟	a. نہیں b. ہاں c. پتہ نہیں d. اوپر دیئے گئے سارے	a
106.	آپ اپنی گاڑی کی لائسنس کب آن کریں گے؟	a. 20 منٹ قبل غروب آفتاب b. 30 منٹ قبل غروب آفتاب c. غروب آفتاب کے وقت d. مجھے معلوم نہیں	b
107.	جب آپ کی گاڑی کو آگ لگ جائے تو کیا کریں گے؟	a. رفتار بڑھائیں گے تاکہ آگ کے شعلے رزک جائیں b. بارن بچائیں گے تاکہ دوسروں کو خبردار کر سکیں c. رزک جائیں گے اور گاڑی کا انجن بند کر دیں گے d. اوپر دیئے گئے سارے	c
108.	ڈرائیور کب سیٹ بیلت کے بغیر گاڑی چلا سکتا ہے؟	a. ریورس کے دوران b. جب عمر 65 سال یا زائد ہو c. جب ڈرائیور بیمار ہو d. اوپر دیئے گئے سارے	a

## ڈرامیٹرز لائسنسنگ امتحانی

a	.a. بائیں .b. دائیں .c. درمیانی .d. اوپر دیئے گئے سارے	120.	کوئی لین گاڑی کے چلانے کے لئے استعمال ہوتی ہے؟
d	.a. سگریٹ .b. کوڑا .c. "دونوں" "a" اور "b" .d. کچھ بھی نہیں	121.	کوئی چیز آپ کو گاڑی سے باہر پھینکنے کی اجازت ہے؟
c	.a. ہیڈ لائٹس .b. فوگ لائٹس .c. "دونوں" "a" اور "b" .d. ان میں سے کوئی نہیں	122.	ڈھند کے دوران آپ کو کسی لائٹس استعمال کریں گے؟
a	.a. دایاں .b. بائیاں .c. پتہ نہیں .d. ان میں سے کوئی نہیں	123.	کونسا انڈیکیٹر دائیں طرف سے اوور ٹیکنگ کے لئے استعمال ہوتا ہے؟
b	.a. ایک .b. دو .c. تین .d. ان میں سے کوئی نہیں	124.	اوور ٹیکنگ کے دوران کتنی بار انڈیکیٹر استعمال ہوتا ہے؟
a	.a. اشارہ بند کر دیں گے .b. اشارہ آن رہنے دیں گے .c. اشارہ کو مسلسل چلنے بچھنے دیں گے .d. اوپر دیئے گئے سارے	125.	جب اوور ٹیکنگ لین میں پہنچ جائیں تو اشارے کا کیا کرنا چاہئے؟

## ڈرامیٹرز لائسنسنگ امتحانی

b	.a. ہاں .b. نہیں .c. پتہ نہیں .d. ان میں سے کوئی نہیں	114.	کیا آپ پاکستان میں کسی گاڑی کو بائیں جانب سے اوور ٹیک کر سکتے ہیں؟
b	.a. ہاں .b. نہیں .c. پتہ نہیں .d. ان میں سے کوئی نہیں	115.	کیا آپ عام حالات میں اچانک بریک لگا سکتے ہیں؟
b	.a. ہاں .b. نہیں .c. پتہ نہیں .d. ان میں سے کوئی نہیں	116.	کیا پیدل اشخاص کو موٹروے پر اجازت ہے؟
a	.a. ہاں .b. نہیں .c. پتہ نہیں .d. ان میں سے کوئی نہیں	117.	کیا ایمرجنسی گاڑیاں سگنل کی شرح بتی کو کراس کر سکتی ہیں؟
b	.a. ہاں .b. نہیں .c. پتہ نہیں .d. ان میں سے کوئی نہیں	118.	کیا ہارڈ شو لڈر اوور ٹیکنگ کے لئے استعمال ہو سکتا ہے؟
b	.a. ہاں .b. نہیں .c. پتہ نہیں .d. ان میں سے کوئی نہیں	119.	کیا ہسپتال کے نزدیک ہارن کے استعمال کی اجازت ہے؟

## ڈرائیورز لائسنسنگ امتحانی

## ڈرائیورز لائسنسنگ امتحانی

c	a. سبز b. سرخ c. سفید d. مجھے معلوم نہیں	130.	ریورس لائٹ کا کیا رنگ ہوتا ہے؟
a	a. نہیں b. پتہ نہیں c. ہاں d. اگر رفتار 80 کلومیٹر سے کم ہو	131.	کیا ڈرائیونگ کے دوران موبائل پر پیغام پڑھنا یا بھیجنا صحیح ہے؟
a	a. موبائل b. انٹرنیٹ c. سی۔ ڈی d. مجھے معلوم نہیں	132.	دوران ڈرائیونگ کس چیز کے استعمال سے توجہ آسانی سے ہٹ سکتی ہے؟
c	a. جانوروں b. گاڑیوں c. پیدل اشخاص d. مجھے معلوم نہیں	133.	زیر اکرانگ _____ کے لیے ہوتی ہے
a	a. 120 کلومیٹر فی گھنٹہ b. 140 کلومیٹر فی گھنٹہ c. 130 کلومیٹر فی گھنٹہ d. 80 کلومیٹر فی گھنٹہ	134.	موٹروے پر کار کی حد رفتار _____ ہے
a	a. دائیں طرف b. بائیں طرف c. روڈ کے دونوں اطراف پر d. مجھے معلوم نہیں	135.	فٹ پاتھ نہ ہونے کی صورت میں ایک پیدل شخص سڑک کے کس طرف چل سکتا ہے؟

c	a. کمرشل موٹر گاڑیاں b. سائیکلیں c. ایمر جنسی گاڑی جب ایمر جنسی پر جا رہی ہوں d. ان میں سے کوئی نہیں	126.	کوئی گاڑی سرخ بتی چھت پر لگا سکتی ہے؟
a	a. دائیں طرف سے راستہ دیں b. اگلے ڈرائیور کو پیچھے رہنے کا اشارہ دیں c. دائیں طرف چلے جائیں اور اوور ٹیکنگ والی گاڑی کا راستہ بند کر دیں d. اوپر دیئے گئے سارے	127.	آپ کو کیا کرنا چاہئے جب دوسری گاڑی کا ڈرائیور آپ کو سگنل دے کہ وہ آپ کو اوور ٹیک کرنا چاہتا ہے؟
c	a. اگر آپ چل رہے ہوں تو کراس کر لیں b. اگر رُکے ہوں تو چل سکتے ہیں c. چلنے کیلئے تیار رہیں مگر سبز بتی کے آن ہونے کا انتظار کریں d. مجھے معلوم نہیں	128.	آپ کیا کریں گے جب سگنل پر کھڑے ہوں اور سرخ اور پیل بتی آن ہوں
b	a. رفتار بڑھانے کے لئے b. برائے اوور ٹیکنگ c. اوپر دیئے گئے سارے d. مجھے معلوم نہیں	129.	موٹروے پر دائیں یا تیسری لین کس لئے استعمال ہوتی ہے؟

## ڈرائیورز لائسنسنگ امتحانی

## ڈرائیورز لائسنسنگ امتحانی

136.	زیر تربیت ڈرائیور اپنی گاڑی کے اگلے اور پچھلے شیشے پر کونسا نشان واضح کرے گا؟	a. L b. S c. W d. D	a
137.	موٹروے پر کم سے کم حد رفتار _____ ہے	a. 65 کلو میٹر فی گھنٹہ b. 60 کلو میٹر فی گھنٹہ c. 70 کلو میٹر فی گھنٹہ d. 55 کلو میٹر فی گھنٹہ	a
138.	گاڑی سڑک پر چلاتے وقت ڈرائیور _____	a. ڈرائیونگ لائسنس پاس نہ رکھے b. رجسٹریشن بک پاس نہ رکھے c. لازمی طور پر ڈرائیونگ لائسنس اور رجسٹریشن بک ہمراہ رکھے d. مجھے معلوم نہیں	c
139.	گاڑی کا ڈرائیور _____	a. اپنی خواہش پر گاڑی چلائے جب ٹریفک سگنل موجود نہ ہو b. گاڑی کو بمطابق ٹریفک قوانین اچھے اور محفوظ طریقے سے چلائے c. اپنی خواہش پر گاڑی چلائے جب ٹریفک پولیس نہ ہو d. اپنی عادت کے مطابق چلائیں گے	b
140.	جب ٹریفک پولیس موقع پر ٹریفک کنٹرول کر رہی ہو تو گاڑی کا ڈرائیور وہی کرے گا جو _____	a. سڑک کے سائن بورڈ پر ہوگا۔ b. ٹریفک لائینس ہوں گی c. ٹریفک پولیس کا حکم ہوگا d. سڑک پر لین مارکنگ ہوگی۔	c
141.	ایسی سڑک جس پر حد رفتار نشان کے ساتھ واضح ہو تو گاڑی کے ڈرائیور کو _____	a. اجازت نہیں کہ حد رفتار سے تجاوز کرے b. 10 فیصد حد رفتار سے تجاوز کی اجازت ہے c. حد رفتار سے زیادہ چلا سکتا ہے d. ان میں سے کوئی نہیں	a
142.	رات کو سڑک کے خطرناک حصے پر گاڑی چلاتے وقت ڈرائیور کو _____ چاہیے کہ _____	a. انتہائی حد رفتار کے مطابق گاڑی چلائے b. رفتار کم کرے اور احتیاط سے چلے c. رفتار کو برقرار رکھے d. حد رفتار سے تجاوز کر جائے	b
143.	خطرناک موسمی حالات میں ڈرائیور کو چاہیے کہ _____	a. معتدل رفتار سے زیادہ چلائے b. حد رفتار سے تجاوز کر جائے c. مرضی کے مطابق چلائے d. کم رفتار سے چلائے	d

## ڈرائیورز لائسنسنگ امتحانی

## ڈرائیورز لائسنسنگ امتحانی

a	<p>a. چوک سے پہلے ر کے اور انتظار کرے</p> <p>b. بائیں طرف سے چوک میں داخل ہو اور گزرنے کی کوشش کرے</p> <p>c. دائیں طرف سے چوک میں داخل ہو اور گزرنے کی کوشش کرے</p> <p>d. اچانک یوٹرن لے اور مخالف سمت میں چلے</p>	148.	جب گاڑی کے سامنے چوک پر ٹریفک جام ہو تو ڈرائیور	d	<p>a. رفتار بڑھا کر ان کے ساتھ مل جائے</p> <p>b. اور ٹیک محفوظ طریقے سے کریں</p> <p>c. صورتحال کے مطابق راستہ دیں</p> <p>d. لازمی راستہ دیں</p>	144.	ایمرجنسی گاڑیاں جب کسی ایمرجنسی مقام پر پہنچ رہی ہوں تو دوسری گاڑیوں کو چاہیے کہ _____
a	<p>a. بائیں سائیڈ کا اشارہ آن کرے</p> <p>b. ڈبل اشارہ آن کرے</p> <p>c. دائیں سائیڈ کا اشارہ آن کرے</p> <p>d. ہاتھ کا اشارہ دے</p>	149.	جب گاڑی کو بائیں ٹرن لینا ہو تو ڈرائیور کو چاہئے کہ پہلے _____	c	<p>a. تیز رفتار گاڑی</p> <p>b. مال بردار گاڑی</p> <p>c. گاڑی جو پہاڑ کے نزدیک ہو</p> <p>d. وہ گاڑی جو پہاڑ کے نزدیک نہ ہو</p>	145.	جب گاڑیوں کو ایک دوسرے کو کراس کرنے میں دشواری ہو جب وہ ایک تنگ پہاڑی سڑک پر ہوں تو کونسی گاڑی پہلے جائے گی؟
a	<p>a. دوسری گاڑیاں کو ہاتھ سے اشارہ کرے</p> <p>b. ڈبل اشارہ آن کرے</p> <p>c. دائیں سائیڈ کا اشارہ آن کرے</p> <p>d. بائیں سائیڈ کا اشارہ آن کرے</p>	150.	جب گاڑی یوٹرن لینے لگے تو ڈرائیور لازمی طور پر پہلے _____	a	<p>a. وہ گاڑی جو اوپر چڑھ رہی ہو</p> <p>b. وہ گاڑی جو چوٹی سے دور ہو</p> <p>c. وہ گاڑی جو نیچے آ رہی ہو</p> <p>d. اوپر دیئے گئے تمام</p>	146.	جب گاڑیاں تنگ اترائی والی سڑک پر ایک دوسرے کو کراس کرنا چاہیں تو کونسی گاڑی پہلے جائے گی
c	<p>a. مدیم ہیڈ لائٹ</p> <p>b. تیز ہیڈ لائٹ</p> <p>c. پارکنگ لائٹ</p> <p>d. ان میں سے کوئی نہیں</p>	147.	رات کے اوقات میں ایک دوسرے کو کراس کرتے وقت گاڑیاں کونسی لائٹ کا استعمال کریں؟	a	<p>a. مدیم ہیڈ لائٹ</p> <p>b. تیز ہیڈ لائٹ</p> <p>c. پارکنگ لائٹ</p> <p>d. ان میں سے کوئی نہیں</p>	147.	رات کے اوقات میں ایک دوسرے کو کراس کرتے وقت گاڑیاں کونسی لائٹ کا استعمال کریں؟



## ڈرامیورڈ اسٹیک اتھارٹی

## ڈرامیورڈ اسٹیک اتھارٹی

c	a. 5 منٹ b. 10 منٹ c. 20 منٹ d. 40 منٹ	155. چار گھنٹے مسلسل گاڑی چلانے کے بعد ڈرامیورڈ کو لازمی طور پر رُک کر کم از کم کتنا آرام کرنا چاہیے؟
c	a. اُس لین میں رُکے جو گاڑیوں کے لیے ہے b. آنے والی ٹریفک کے دائیں سائیڈ پر رُکیں c. سڑک کے بائیں سائیڈ پر رُکیں d. سڑک کے کنارے پر رُکیں	156. جب گاڑیوں کو عارضی طور پر رُکنا ہو تو ڈرامیورڈ کو چاہیے کہ
d	a. 20 میٹر b. 30 میٹر c. 40 میٹر d. 50 میٹر	157. گاڑی کو اجازت نہیں کہ چوک کے نزدیک سے کم فاصلے پر رُکے
a	a. 50 میٹر b. 40 میٹر c. 30 میٹر d. 20 میٹر	158. گاڑی کو اجازت نہیں کہ موڑ کے نزدیک سے کم فاصلے پر رُکے
a	a. 50 میٹر b. 40 میٹر c. 30 میٹر d. 20 میٹر	159. گاڑی کو اجازت نہیں کہ اترائی سے کم فاصلے پر رُکے

c	a. ڈبل اشارہ آن کرے b. دوسری گاڑیوں کو ہاتھ سے اشارہ کرے c. دائیں سائیڈ کا اشارہ آن کرے d. بائیں سائیڈ کا اشارہ آن کرے	151. جب گاڑی کو دائیں لین میں آنا ہو تو ڈرامیورڈ کو چاہئے پہلے
d	a. ڈبل اشارہ آن کرے b. دائیں سائیڈ کا اشارہ آن کرے c. ہاتھ کا اشارہ دے d. بائیں سائیڈ کا اشارہ آن کرے	152. جب گاڑی بعد از اوور ٹیکنگ واپس اصل لین میں آنے لگے تو ڈرامیورڈ کو چاہئے کہ پہلے
b	a. تیز چلے b. آہستہ چلے c. ڈبل انڈیکیٹر آن کرے d. ان میں سے کوئی نہیں	153. جب گاڑی کا ڈرامیورڈ ایک خطرناک موڑ کے نزدیک پہنچے جہاں اُسے صحیح نظر نہ آئے تو ڈرامیورڈ کو لازمی طور پر اور دوسروں کی توجہ حاصل کرنے کے لئے ہارن دے
d	a. انجن بند کر دے b. گیئر نیوٹرل کر دے c. اور انجن بند نہ کرے d. گیئر نیوٹرل کر دے e. کسی صورت میں نیوٹرل نہ کرے اور انجن بند نہ کرے	154. چڑھائی سے اترتے ہوئے گاڑی کے ڈرامیورڈ کو چاہئے کہ

## ڈرائیورز لائسنسنگ امتحانی

## ڈرائیورز لائسنسنگ امتحانی

a	.a. بائیں طرف مڑیں .b. دائیں طرف مڑیں .c. سیدھا چلیں .d. یوٹرن لے لیں	164.	جب بائیں رخ والے تیر کے نشان والی لائٹ سبز ہو تو گاڑیوں کو اجازت ہے کہ
b	.a. بائیں طرف مڑیں .b. دائیں طرف مڑیں .c. سیدھا چلیں .d. یوٹرن لے لیں	165.	جب دائیں رخ والے تیر کے نشان والی لائٹ سبز ہو تو گاڑیوں کو اجازت ہے کہ
c	.a. بائیں مڑنے سے .b. دائیں مڑنے سے .c. سیدھا جانے سے .d. یوٹرن سے	166.	جب اوپر کے رخ والے تیر کے نشان والی لائٹ سرخ ہو تو گاڑیوں کو _____ منع کرتی ہے
a	.a. بائیں مڑنے سے .b. دائیں مڑنے سے .c. سیدھا جانے سے .d. یوٹرن سے	167.	جب بائیں رخ والے تیر کے نشان والی لائٹ سرخ ہو تو گاڑیوں کو _____ منع کرتی ہے
b	.a. بائیں مڑنے سے .b. دائیں مڑنے سے .c. سیدھا جانے سے .d. یوٹرن سے	168.	جب دائیں رخ والے تیر کے نشان والی لائٹ سرخ ہو تو گاڑیوں کو _____ منع کرتی ہے

d	.a. 20 میٹر .b. 30 میٹر .c. 40 میٹر .d. 50 میٹر	160.	گاڑی کو اجازت نہیں کہ ٹرنگ کے نزدیک _____ سے کم فاصلے پر رُکے
d	.a. 5 میٹر .b. 10 میٹر .c. 20 میٹر .d. 30 میٹر	161.	گاڑی کو اجازت نہیں ہے کہ فائر بریک کی گاڑیاں جو جگہ استعمال کریں اس کے نزدیک _____ سے کم فاصلہ پر رُکے
a	.a. بائیں سائیڈ کا اشارہ آن کرے .b. دائیں سائیڈ کا اشارہ آن کرے .c. ڈبل اشارہ آن کرے .d. ہیڈ لائٹس آن کرے	162.	ایکسپریس وے کو چھوڑتے وقت ڈرائیور _____ اور بائیں لین میں آنے اور رفتار کم کرتے ہوئے چھوڑ دے
b	.a. دائیں طرف مڑنے والی گاڑیاں .b. بائیں طرف مڑنے والی گاڑیاں .c. گاڑیاں جو "T" چوک سے مڑ رہی ہوں .d. تمام اطراف کی گاڑیاں	163.	جب سُرُخ لائٹ جل رہی ہو تو _____ گزر سکتی ہیں اگر وہ ٹریفک کے بہاؤ میں رکاوٹ نہ بنے

## ڈرائیورز لائسنسنگ امتحانی

a	<p>a. ڈرائیور سر جھکا کر نیچے نہیں دیکھے گا</p> <p>b. ڈرائیور آہستہ سے گیسز دباے گا اور کھینچے گا</p> <p>c. ڈرائیور گیسز کی سمت دیکھے گا</p> <p>d. ڈرائیور دباؤ کے ساتھ آگے پیچھے کرے گا۔</p>	172.	گیسز تبدیل ہونے کے وقت _____
b	<p>a. الیکٹریک آلات نمی کی وجہ سے جل جاتے ہیں</p> <p>b. روڈ سلپری اور گیلی ہوتی ہے اور نظر آنا کم ہو جاتا ہے</p> <p>c. انجن بسا اوقات زک جاتا ہے</p> <p>d. گاڑی کو مزاحمت بڑھ جاتی ہے</p>	173.	بارشوں کا موسم محفوظ ڈرائیونگ پر اثر انداز ہوتا ہے کیونکہ _____
c	<p>a. انجن بند ہو سکتا ہے</p> <p>b. دوسری گاڑیاں نظر انداز ہو سکتی ہیں</p> <p>c. گاڑی سڑک سے پھسل سکتی ہے</p> <p>d. کم دکھائی کی وجہ سے حادثہ ہو سکتا ہے</p>	174.	بارش کے بعد سڑک سلپری اور گیلی ہو جاتی ہے اور گاڑی کے بریک لگانے سے _____

## ڈرائیورز لائسنسنگ امتحانی

d	<p>a. گاڑیاں اور پیدل چلنے والے تیزی سے گزریں</p> <p>b. گزرنے والی گاڑیاں اور پیدل چلنے والے زک جائیں</p> <p>c. گزرنے والی گاڑیاں اور پیدل چلنے والے گزر جائیں</p> <p>d. گزرنے والی گاڑیاں اور پیدل چلنے والے گزرنے سے پہلے تسلی کر لے کہ ابھی حفاظت سے گزر سکتے ہیں</p>	169.	منسل جلتی بجھتی پیل لائٹ تنبیہ کرتی ہے کہ _____
c	<p>a. وقتی طور پر دونوں ہاتھ اٹھا سکتا ہے</p> <p>b. اپنی مرضی کے مطابق ہاتھ اٹھا سکتا ہے</p> <p>c. ایک ساتھ دونوں ہاتھ نہیں ہٹائے گا</p> <p>d. مجھے معلوم نہیں</p>	170.	گاڑی چلاتے وقت ڈرائیور سٹیئرنگ سے _____
b	<p>a. بائیں پاؤں کا اگلا حصہ</p> <p>b. دائیں پاؤں کا اگلا حصہ</p> <p>c. دائیں پاؤں کا درمیانی حصہ</p> <p>d. دائیں پاؤں کی ایڑھی</p>	171.	بریک پیڈل دبانے وقت ڈرائیور کو لازمی استعمال کرنا چاہیے _____

## ڈرائیورز اسٹینڈ انٹرنی

## ڈرائیورز اسٹینڈ انٹرنی

	d. سڑک پر پکڑ میں مستبوطی آجاتی ہے		
c	a. روڈ سائن کم ہوتے ہیں b. ٹریفک حالات بورنگ ہوتے ہیں c. چڑھائی زیادہ، موڑ خطرناک اور سڑک کے حالات غیر یقینی ہوتے ہیں d. ٹریفک میں اضافہ ہو جاتا ہے	179.	پہاڑی سڑک ڈرائیونگ پر اثر انداز ہوتی ہے کیونکہ
b	a. رفتار بڑھا کر آگے جائیں b. رفتار کم کریں اور جتنا ممکن ہو سکے حالات کو قابو میں رکھیں c. رفتار برقرار رکھیں d. گاڑی کا راستہ روکیں	180.	جب آپ کی مخالف سمت سے آنے والی گاڑی اور ٹیک کرنے کیلئے اچانک آپ کی لین میں آجائے تو آپ کو چاہیے کہ
c	a. کم رفتار پر چلائیں b. جلد از جلد بریک لگائیں c. بریک لگائیں اور روڈ کی بائیں جانب رُک جائیں d. آہستہ رُکیں	181.	اگر رات کے اوقات میں سفر کے دوران آپ کی گاڑی کی تمام لائٹس اچانک بند ہو جائیں تو آپ کو چاہیے کہ
c	a. اگلی گاڑی کو اور ٹیک کرے	182.	دوران ڈرائیونگ جب آگے ٹریفک کارش دیکھیں تو ڈرائیور کو چاہئے کہ

d	a. گاڑی کا انجن بند ہوسکتا ہے b. گاڑی پھسل سکتی ہے c. گاڑی کیلئے مزاحمت بڑھ جاتی ہے d. نظر آنا کم ہو جاتا ہے	175.	ڈھند محض ڈرائیونگ پر ایسے اثر انداز ہو سکتی ہے کہ _____
b	a. بڑھ جاتی ہے b. کم ہو جاتی ہے c. غیر تبدیلی d. بے قاعدگی	176.	دن کی ڈرائیونگ کی نسبت رات کی ڈرائیونگ کے دوران ڈرائیور کی قوت مشاہدہ کمزور ہو جاتی ہے اور ڈرائیور کی نظر کی حد _____
d	a. انکیشک آلات شارٹ سرکٹ ہو سکتے ہیں b. نظر کی حد کم ہو جاتی ہے c. گاڑی کے لیے مزاحمت بڑھ جاتی ہے d. ڈرائیور کی نظر سورج کی روشنی منعکس ہونے سے متاثر ہو سکتی ہے اور سڑک کی سطح پر پھسلن ہوتی ہے	177.	ثالثہ باری اور برقیاری کا موسم سڑک پر اثر انداز ہوتا ہے کیونکہ _____
b	a. گاڑی کیلئے مزاحمت کم ہو جاتی ہے b. نائز آسانی سے ٹھوم اور پھسل سکتے ہیں c. حد نظر کم ہو سکتی ہے	178.	پکچر والی سڑک ڈرائیونگ پر اثر انداز ہو سکتی ہے کیونکہ _____

## ڈرائیورز اسٹینڈ انٹرنی

	<p>b. دوسری گاڑیوں کے درمیان سے نکلے</p> <p>c. رفتار کم کرے، ز کے اور اپنی لین میں انتظار کرے</p> <p>d. بارن بجائیں تاکہ دوسری گاڑیوں کو آگے کی طرف جانے پر مجبور کریں</p>		
b	<p>a. گزر جانے</p> <p>b. رضا کارانہ طور پر اسکی مدد کرے</p> <p>c. اس کو نظر انداز کرے</p> <p>d. اس کو بارن دے</p>	183.	اگلی گاڑی اگر کیچڑ والی جگہ پر پھنس جائے تو ڈرائیور کو چاہیے کہ _____
d	<p>a. ایمر جنسی بریک لگا کر ڈک سکتا ہے</p> <p>b. تیزی سے گزر سکتا ہے</p> <p>c. تیزی سے ٹکر سے بچ سکتا ہے</p> <p>d. آہستہ سے گاڑی کو روک سکتا ہے</p>	184.	نارمل رفتار سے گاڑی چلاتے ہوئے ڈرائیور آسانی سے سڑک کے حالات سے واقف ہوتا ہے اور اچانک کسی رکاوٹ کے سامنے آنے کی صورت میں _____
a	<p>a. مہذب</p> <p>b. تیز رفتار</p> <p>c. خود غرض</p> <p>d. اچھلنا</p>	185.	گاڑی کو ہمیشہ محفوظ _____ اور دوستانہ انداز میں چلانا چاہیے

## ڈرائیورز اسٹینڈ انٹرنی

	<p>a. دائیں طرف سے اور ٹیک کرے جب گاڑی سامنے سے پہنچے</p> <p>b. پہلے سے لین تبدیل کر لے اور اور ٹیک کر لے</p> <p>c. بارن دے</p> <p>d. فٹ پاتھ کو استعمال کر کے اور ٹیک کرے</p>	186.	جب اگلی گاڑی آہستہ ہوتی محسوس ہو تو ڈرائیور کو چاہیے کہ _____
d	<p>a. پچھا کرے اور جب موقع ملے تو اور ٹیک کرے</p> <p>b. سپیڈ بڑھا دے زبردستی اور ٹیک کرے</p> <p>c. مسلسل بارن بجائے اور اگلی گاڑی کو راستہ دینے پر مجبور کرے</p> <p>d. اور ٹیک نہ کرے اور اگلی گاڑی کو پہلے اور ٹیک کرنے دے</p>	187.	جب اور ٹیک کرنا چاہیں اور پتہ چلے کہ اگلی گاڑی بھی اور ٹیک کر رہی ہے تو ڈرائیور کو چاہیے _____
a	<p>a. رفتار کم کریں اور رکھیں جب تک رش ختم نہ ہو جائے</p> <p>b. چوک میں داخل ہونا جاری رکھیں</p> <p>c. بارن بجائیں تاکہ سامنے والی گاڑی کو اشارہ ملے</p>	188.	جب چوک میں رش ہو تو ایسے حالات میں ڈرست طریقہ یہ ہے کہ _____



## ڈرائیورز انسٹنگ امتحانی

## ڈرائیورز انسٹنگ امتحانی

b	.a. درست .b. غلط .c. مجھے پتہ نہیں .d. ان میں سے کوئی نہیں	192. ڈرائیونگ لائسنس گم ہونے کی صورت میں ڈرائیور گاڑی چلا سکتا ہے
a	.a. درست .b. غلط .c. مجھے پتہ نہیں .d. ان میں سے کوئی نہیں	193. ڈرائیونگ لائسنس ضبط ہونے کی صورت میں ڈرائیور گاڑی نہیں چلا سکتا
a	.a. درست .b. غلط .c. مجھے پتہ نہیں .d. ان میں سے کوئی نہیں	194. جب روڈ پر تیز اور آہستہ سپیڈ لین ہو تو آہستہ سپیڈ والی لین میں چلیں اور تیز سپیڈ والی لین صرف اوور ٹیکنگ کے لئے استعمال کریں
a	.a. درست .b. غلط .c. مجھے پتہ نہیں .d. ان میں سے کوئی نہیں	195. گاڑی کو اجازت نہیں ہے کہ جہاں سے مڑنا نشان کے ذریعے منع کیا گیا ہو، وہ مڑے
a	.a. غلط .b. درست .c. مجھے پتہ نہیں .d. ان میں سے کوئی نہیں	196. چڑھائی میں گاڑی واپس مڑ سکتی ہے
a	.a. درست .b. غلط .c. مجھے پتہ نہیں .d. ان میں سے کوئی نہیں	197. جب گاڑی ریورس کرنی ہو تو ڈرائیور کو چاہئے کہ ایسا کرنے سے پہلے یقین کر لے کہ گاڑی کو ریورس کرنا محفوظ ہے

b	.a. اچانک اور ٹیک کرے .b. اوور ٹیک کرنا چھوڑ دے .c. مسلسل ہارن دے اور .d. اوور ٹیک کرے	189. جب اگلی گاڑی اوور ٹیک کرنے کے لئے جگہ نہ دے تو ڈرائیور کو چاہیے کہ _____
c	.a. ہارن بجائیں تاکہ وہ باخبر ہو .b. سپیڈ بڑھا کر گاڑی کا نزدیکی سے پیچھا کریں اور اسکو اجازت نہ دے .c. رضا کارانہ طور پر اسکو جانے دیں .d. رفتار بڑھا کر گاڑی کا راستہ روکیں	190. جب زیادہ رش کیوجہ سے سڑک پر آہستہ جانا ہو اور ایک گاڑی زبردستی گھسنے کی کوشش کرے تو _____
c	.a. گاڑی کی کھڑکی سے باہر گلی میں .b. بیابان روڈ پر .c. گاڑی میں موجود کوڑا دان میں .d. سیٹ کے نیچے یا گاڑی کے مخصوص حصے میں	191. جب ڈرائیور گاڑی چلا رہا ہو تو اس کو چاہیے کہ مسافروں کو کہے کہ گندگی _____ پھینکیں

## ڈرائیورز لائسنسنگ امتحانی

198.	چوک میں گاڑی کو ریورس کیا جاسکتا ہے	a. درست b. غلط c. مجھے پتہ نہیں d. ان میں سے کوئی نہیں	b
199.	ڈرائیور کو اجازت نہیں ہے کہ سرنگ میں گاڑی موڑے	a. درست b. غلط c. مجھے پتہ نہیں d. ان میں سے کوئی نہیں	a
200.	گاڑی کو میکسٹرم روڈ پر ریورس کرنے کی اجازت ہے	a. غلط b. درست c. مجھے پتہ نہیں d. ان میں سے کوئی نہیں	a
201.	جب بریک پر گاڑی خراب ہو یا حادثہ ہو ابھ اور ٹریفک میں خلل کا سبب ہو اور آگے جانا بھی مشکل ہو تو گاڑی کے دونوں اشارے آن رکھیں	a. غلط b. درست c. مجھے پتہ نہیں d. ان میں سے کوئی نہیں	b
202.	جب تک گاڑی کے دروازے درست طور پر بند نہ ہوں تو گاڑی کو نہ چلائیں	a. درست b. غلط c. مجھے پتہ نہیں d. ان میں سے کوئی نہیں	a
203.	چیزوں کو اسٹیک یا پچھلے کھڑکیوں کے پاس نہ لٹکائیں اور نہ رکھیں جس سے ڈرائیور کو کچھ نظر نہ آئے	a. درست b. غلط c. مجھے پتہ نہیں d. ان میں سے کوئی نہیں	a

## ڈرائیورز لائسنسنگ امتحانی

204.	جب گاڑی ایک پل سے گزر رہی ہو جہاں پانی کا بہاؤ تیز ہو تو ڈرائیور کو چاہئے کہ رُک کر حالات کو دیکھے اور آہستہ گزرے اور یہ یقینی بنائے کہ ایسا کرنا محفوظ ہے۔	a. درست b. غلط c. مجھے پتہ نہیں d. ان میں سے کوئی نہیں	a
205.	گاڑی کے دروازے بند کرنے یا کھولنے سے ٹریفک میں اور پیدل اشخاص کو کوئی رکاوٹ نہیں ہونی چاہئے	a. غلط b. درست c. مجھے پتہ نہیں d. ان میں سے کوئی نہیں	b
206.	چلتی گاڑی میں موجود لوگوں کو اجازت نہیں ہے کہ وہ اپنا سر گاڑی سے باہر نکالیں لیکن ہاتھ نکالنے کی اجازت ہے	a. غلط b. درست c. مجھے پتہ نہیں d. ان میں سے کوئی نہیں	a
207.	لوگ ایکسپریس وے پر گاڑی کو ٹیٹ کر سکتے یا سیکھ سکتے ہیں	a. غلط b. درست c. مجھے پتہ نہیں d. ان میں سے کوئی نہیں	a
208.	جب گاڑی ایکسپریس وے پر جارہی ہو تو ہارڈ شوल्ڈر سے اوور ٹیک کر سکتی ہے	a. غلط b. درست c. مجھے پتہ نہیں d. ان میں سے کوئی نہیں	a
209.	ایکسپریس وے پر گاڑی کو اجازت نہیں ہے کہ ریورس میں جائے یا مخالف سمت میں چلے یا یوٹرن لے یا کیرج وے پر رُک جائے	a. غلط b. درست c. مجھے پتہ نہیں d. ان میں سے کوئی نہیں	b

## ڈرائیورز لائسنسنگ اتھارٹی

## ڈرائیورز لائسنسنگ اتھارٹی

216.	جب پہلی بار آن ہو تو یہ گاڑیوں کو گزرنے کی اجازت دیتی ہے	a. درست b. غلط c. مجھے پتہ نہیں d. ان میں سے کوئی نہیں	b
217.	جب سڑخ کر اس کے نشان والی لائن آن ہو یہ اجازت دیتی ہے کہ گاڑیاں اس لائن سے گزریں	a. درست b. غلط c. مجھے پتہ نہیں d. ان میں سے کوئی نہیں	b
218.	جب سڑخ تیر کے نشان والی لائن آن ہو یہ منع کرتی ہے کہ گاڑیاں اس لائن سے گزریں	a. درست b. غلط c. مجھے پتہ نہیں d. ان میں سے کوئی نہیں	a
219.	جب اوپر کے رخ والے تیر کے نشان والی لائن سبز ہو تو یہ اجازت دیتی ہے کہ گاڑیاں سیدھی جائیں	a. غلط b. درست c. مجھے پتہ نہیں d. ان میں سے کوئی نہیں	b
220.	تیز ہوا چلتی گاڑی کو اپنے راستے سے ہٹانے کا باعث بن سکتی ہے	a. درست b. غلط c. مجھے پتہ نہیں d. ان میں سے کوئی نہیں	a
221.	ڈرائیونگ کرتے ہوئے ڈرائیور کو چاہیے کہ روڈ سیفٹی سے متعلق قوانین پر عمل پیرا رہے۔	a. درست b. غلط c. مجھے پتہ نہیں d. ان میں سے کوئی نہیں	a

210.	جب گاڑی ایکسپریس وے پر جا رہی ہو تو ایمر جنسی لین میں بغیر ایمر جنسی کے رُک سکتی ہے	a. غلط b. درست c. مجھے پتہ نہیں d. ان میں سے کوئی نہیں	a
211.	کم رفتار والی لین سے ایکسپریس وے پر اوور ٹیک کرنے کی اجازت ہے	a. غلط b. درست c. مجھے پتہ نہیں d. ان میں سے کوئی نہیں	a
212.	جب گاڑی کا ڈرائیور حادثے کا باعث بنے اور بھاگ جائے تو وہ حادثے میں ملوث نہیں ہے	a. غلط b. درست c. مجھے پتہ نہیں d. ان میں سے کوئی نہیں	a
213.	اگر گاڑی کے کاغذات، نمبر پلیٹ اور لائسنس منگوا ہوں تو ٹریفک پولیس گاڑی کو پابند کر سکتی ہے۔	a. غلط b. درست c. مجھے پتہ نہیں d. ان میں سے کوئی نہیں	b
214.	جب سڑخ بنی آن ہو تو یہ گاڑیوں کو گزرنے کی اجازت دیتی ہے	a. غلط b. درست c. مجھے پتہ نہیں d. ان میں سے کوئی نہیں	a
215.	جب سبز بنی آن ہو تو یہ گاڑیوں کو گزرنے سے منع کرتی ہے	a. غلط b. درست c. مجھے پتہ نہیں d. ان میں سے کوئی نہیں	a

## ڈرائیورز انسٹیگ اٹھارتی

a	.a غلط .b درست .c مجھے پتہ نہیں .d ان میں سے کوئی نہیں	228. ڈرائیونگ کے دوران ڈرائیور کھڑکی سے باہر تھوک سکتا ہے؟
a	.a غلط .b درست .c مجھے پتہ نہیں .d ان میں سے کوئی نہیں	229. SILENCE ZONE سے گزرتے وقت اگر کوئی پیدل چلنے والا سامنے آجائے تو ہارن دیکر اس کی توجہ مبذول کرانی چاہیے
a	.a غلط .b درست .c مجھے پتہ نہیں .d ان میں سے کوئی نہیں	230. اگر پیچھے سے کوئی گاڑی نہ آ رہی ہو تو ڈرائیور بغیر اشارہ دیئے لین تبدیل کر سکتا ہے
a	.a درست .b غلط .c مجھے پتہ نہیں .d ان میں سے کوئی نہیں	231. خاتون ڈرائیور کے لئے اونچی ایڑھی والی جوتی پہن کر ڈرائیونگ کرنا غیر محفوظ ہے
a	.a درست .b غلط .c مجھے پتہ نہیں .d ان میں سے کوئی نہیں	232. ڈرائیور کی یہ غلط عادت ہے کہ اپنا دائیاں بازو کھڑکی پر رکھے یا بائیں ہاتھ سے گیسٹر لیور زیادہ دیر تک پکڑے رکھے
b	.a درست .b غلط .c مجھے پتہ نہیں .d ان میں سے کوئی نہیں	233. تمباکو نوشی محفوظ ڈرائیونگ پر اثر انداز نہیں ہوتی

## ڈرائیورز انسٹیگ اٹھارتی

a	.a درست .b غلط .c مجھے پتہ نہیں .d ان میں سے کوئی نہیں	222. ڈرائیور کو دوران ڈرائیونگ حد رفتار کی پابندی کرنی چاہیے
b	.a درست .b غلط .c مجھے پتہ نہیں .d ان میں سے کوئی نہیں	223. نارمل ڈرائیونگ میں ڈرائیور کو سینٹرل لائن پر گاڑی چلائی چاہیے تاکہ مخالف سمت سے کوئی گاڑی اوور ٹیک نہ کر سکے
a	.a درست .b غلط .c مجھے پتہ نہیں .d ان میں سے کوئی نہیں	224. ڈرائیور کا دوران ڈرائیونگ موبائل فون کا استعمال غیر قانونی ہے
a	.a غلط .b درست .c مجھے پتہ نہیں .d ان میں سے کوئی نہیں	225. جب سڑک پر زکاوٹ موجود ہو تو ڈرائیور کو چاہیے کہ اتنی تیزی سے گزرے کہ جلد از جلد زکاوٹ عبور کر لے
a	.a درست .b غلط .c مجھے پتہ نہیں .d ان میں سے کوئی نہیں	226. اگر کوئی دوسرا ڈرائیور مدد طلب کرے تو اس کی بروقت مدد کرنی چاہیے
a	.a غلط .b درست .c مجھے پتہ نہیں .d ان میں سے کوئی نہیں	227. اگر سڑک پر حادثہ مل جائے تو جلد سے جلد وہاں سے گزر جانا چاہیے اور زخمیوں کی مدد نہیں کرنی چاہیے

## ڈرائیورز لائسنسنگ امتحانی

## ڈرائیورز لائسنسنگ امتحانی

	وہ لین تبدیل کرنا چاہ رہا ہے پہلے ہی سے اشارہ .c دینے کی ضرورت نہیں ہے .d ٹریفک حالات کو دیکھ کر مڑنے کا اشارہ لگا سکتے ہیں				
	a. ڈبل اشارہ آن کرے b. مڑنے والا اشارہ آن کرے c. ہاتھ کا اشارہ دے d. بائیں طرف مڑنے کا اشارہ آن کرے	238.	جب ڈرائیور بائیں لین تبدیل کرنا چاہ رہا ہو اور ایسا کرنا ٹریفک میں رکاوٹ کا باعث نہ ہو تو _____		
	a. پچھلی گاڑیوں کو ہاتھ کے اشارے دے کہ اُس کو راستہ دیں b. رفتار بڑھا کر داخل ہو جائے c. دائیں مڑے اور سیدھا موڑے میں داخل ہو جائے d. آگے آہستہ جائے اور منتظر کرے اور موقع ملنے پر موڑے پر داخل ہو جائے	239.	جب ڈرائیور موڑے پر داخل ہونے والا ہو اور وہ دیکھے کہ اُس کے پیچھے کافی تعداد میں گاڑیاں موڑے پر آ رہی ہیں تو اُس کو چاہیے کہ _____		
	a. غلط b. درست c. مجھے پتہ نہیں d. ان میں سے کوئی نہیں	234.	بار بار لین تبدیل کرنا ڈرائیور کی بُری عادت نہیں ہے	a	
	a. غلط b. درست c. مجھے پتہ نہیں d. ان میں سے کوئی نہیں	235.	تنگ سڑک پر ایک دوسرے کو کراس کرتے وقت ڈرائیور گاڑی کو آہستہ کرے اور دوسرے کو گزرنے دے	b	
	a. رُک جائے یا رفتار کم کرے اور مخالف سمت سے آنے والی گاڑی کو راستہ دے b. رفتار بڑھالے اور رکاوٹ کو کراس کر لے c. ہارن دے اور کراس کرے d. جلدی سے دائیں لین میں آجائے اور مخالف سمت والی گاڑی کو مجبور کرے کہ آپ کو گزرنے دیں	236.	اگر سڑک پر رکاوٹ ہو اور ڈرائیور اُس کو کراس کرنا چاہے مگر مخالف سمت سے گاڑی آجائے تو _____	a	
	a. ایک سیکنڈ کے لیے اشارہ آن کریں b. اشارہ تین سیکنڈ پہلے آن کر لیں تاکہ دوسروں کو پتہ چل سکے کہ	237.	لین تبدیلی کے وقت _____	b	



## ڈرائیورز اسٹینڈ انٹارنی

d	<p>a. آگے جائے اور مخالف لین اپنالے</p> <p>b. اچانک بریک لگائے اور آہستہ جائے</p> <p>c. موڑ کے باہر والی طرف چلے</p> <p>d. رفتار کم کرے اور بائیں جانب چلے</p>	243.	جب گاڑی ایک خطرناک موڑ پر پہنچے تو ڈرائیور کو لازم ہے کہ _____
a	<p>a. لازمی رفتار کم کرے ہارن دے اور سڑک کے بائیں جانب چلے</p> <p>b. لازمی طور پر روڈ کے باہر جانب چلے</p> <p>c. مخالف لین میں چلا جائے</p> <p>d. این میں سے کوئی نہیں</p>	244.	اگر گاڑی پہاڑی سڑک پر موڑ میں داخل ہو اور مخالف سمت سے کوئی گاڑی نہ آ رہی ہو تو ڈرائیور کو چاہیے کہ _____
d	<p>a. رفتار بڑھا کر گزر جائے</p> <p>b. رفتار کم کر کے گزر جائے</p> <p>c. رفتار برقرار رکھے اور گزر جائے</p> <p>d. رُکے، دیکھے اور گزر جائے</p>	245.	بغیر بھانگ کے ریلوے کراسنگ سے گزرتے وقت ڈرائیور لازمی _____

## ڈرائیورز اسٹینڈ انٹارنی

d	<p>a. ایسی جگہ جہاں بھاری ٹریفک ہو</p> <p>b. ایسی جگہ جہاں روڈ تنگ ہو</p> <p>c. ایسی جگہ سے جہاں پیدل اشخاص کافی ہوں</p> <p>d. ایسی جگہ سے پوٹرن کرے جہاں ٹریفک کا بہاؤ متاثر نہ ہو</p>	240.	عام سڑک پر پوٹرن لینے کے لئے ریورس کرتے وقت ڈرائیور کو چاہیے کہ _____
b	<p>a. رفتار بڑھا کر موزوں مقام کو منتخب کریں</p> <p>b. رفتار کم کر کے ایک دوسرے کو کراس کریں</p> <p>c. یاڑک کر راستہ دیں</p> <p>d. دائیں لین میں چلے اور مخالف سمت سے آہولی گاڑی کو دیاؤ ڈالے کہ وہ رفتار آہستہ کرے</p> <p>d. ہیڈ لائٹس آن کریں تاکہ مخالف سمت والی گاڑی کو پتہ چلے کہ رُکے اور گزرنے دو</p>	241.	اگر غیر موزوں جگہ پر ایک دوسرے کو کراس کرنا ہو تو ڈرائیور کو چاہیے کہ _____
a	<p>a. اوور ٹیکنگ سے باز رہے</p> <p>b. دباؤ ڈال کر اوور ٹیک کرے</p> <p>c. ہارن دے اور اگلی گاڑی کو ایک طرف کر دے</p> <p>d. احتیاط سے اوور ٹیک کرے</p>	242.	اگر اوور ٹیک کرنے والی گاڑی کے پاس اوور ٹیکنگ کی جگہ نہ ہو تو ڈرائیور پر لازمی ہے کہ وہ _____

## ڈرائیورز لائسنسنگ امتحانی

## ڈرائیورز لائسنسنگ امتحانی

a	<p>a. سڑک سے ایک طرف ہو کر رفتار کم کر کے پارک کر راستہ دے</p> <p>b. دوسری لین میں گاڑی چلائے</p> <p>c. رفتار بڑھا کر صورتحال سے پیچھا چھڑائے</p> <p>d. اپنی لین میں رہ کر چلتا جائے</p>	<p>250. جب ایک ایسوی لئسنس تیزی سے ایک ہی لین میں مخالف سمت سے آرہی ہو تو ڈرائیور پر لازم ہے کہ _____</p>
d	<p>a. اُن کے پاس پہنچ کر ہارن دے</p> <p>b. رفتار بڑھا کر اُن کو کر اس کرے</p> <p>c. اپنی رفتار میں رہے</p> <p>d. رفتار کم کرے اور ہارن دے کر اُن کی توجہ حاصل کرے</p>	<p>251. اگر ایسے پیدل اشخاص جو سڑک پر چلنے ہوئے موبائل فون پر بات کر رہے ہوں تو ڈرائیور پر لازم ہے کہ _____</p>
b	<p>a. ہارن دے کر توجہ حاصل کریگا</p> <p>b. آہستہ گزرے گا</p> <p>c. ایک سائیڈ سے تیزی سے گزر جائے گا</p> <p>d. رفتار بڑھائے گا اور گزرے گا</p>	<p>252. بچوں کو سڑک پر گزرتا دیکھ کر ڈرائیور لازمی _____</p>

a	<p>a. بائیاں اشارہ</p> <p>b. ڈبل اشارے</p> <p>c. دائیاں اشارہ</p> <p>d. ہیڈ لائٹس</p>	<p>246. گول چکر سے نکلنے سے پہلے ڈرائیور لازمی _____ آن کرے۔</p>
b	<p>a. ہارن دے کر راستے لے گا</p> <p>b. اس کو پہلے گزرنے دیگا</p> <p>c. رفتار بڑھا کر گزرے گا</p> <p>d. اُس کا پیچھا کریگا اور ہارن دیگا</p>	<p>247. جب جانوروں سے کھینچی جانی والی گاڑی ایک رُکی ہوئی گاڑی کو کر اس کرنے لگے تو ڈرائیور لازمی _____</p>
d	<p>a. مسلسل ہارن دے کر ریوڑ کو ایک طرف کریگا</p> <p>b. رفتار بڑھا کر گزر جائے</p> <p>c. آہستہ چلے گا اور ریوڑ کو ڈرا کر ایک طرف کریگا</p> <p>d. رفتار آہستہ کر کے گزرے گا یا زک کر اُن کو گزرنے دے گا</p>	<p>248. بھیڑوں کا ریوڑ جب سڑک سے گزر رہا ہو تو ڈرائیور _____</p>
a	<p>a. رفتار کم کرے</p> <p>b. یازک کر راستہ دے</p> <p>c. ہارن دے کر دور کریگا</p> <p>d. رفتار بڑھا کر گزر جائے گا</p> <p>a. رفتار کم نہ کر کے گاڑی سے اُن کو دور کریگا</p>	<p>249. جب ڈرائیور کو جانوروں کے گزرنے کا علم ہو تو _____</p>

## ڈرائیورز لائسنسنگ امتحانی

## ڈرائیورز لائسنسنگ امتحانی

257.	جب نوجوان موٹر سائیکل سوار کسی گاڑی کو اوور ٹیک کر رہا ہو تو ڈرائیور کو چاہئے کہ _____	a. تیزی سے گزر جائے b. مناسب رفتار میں چلے c. آہستہ ہو کر اسے راستہ دے d. مسلسل ہارن دیں	c
258.	جب ایک گاڑی کسی موٹر سائیکل سوار کو اوور ٹیک کر رہی ہو تو ڈرائیور کو چاہئے کہ _____	a. موٹر سائیکل سوار کو گزرنے دیں b. ان کا مشاہدہ کرے اور احتیاط سے اوور ٹیک کرے c. مسلسل آسے ہارن دے تاکہ آسکو یاد دہانی کروا کے گزرنے d. مسلسل آسے ہارن دے اور سپیڈ بڑھا کر اوور ٹیک کرے	b
259.	جب رات کو مخالف سمت سے موٹر سائیکل آ رہا ہو تو ڈرائیور کو لازمی _____	a. لائٹس مسلسل ڈم فل کرے b. مسلسل ہارن بجائے c. تیز ہیڈ لائٹس استعمال کرے d. ہلکی لائٹ استعمال کرے، رفتار کم کرے اور اس کو راستہ دے	d

253.	سکول کے بچوں کو لائن بنا کر سڑک کراس کرتے وقت ڈرائیور لازمی _____	a. رفتار بڑھا کر زبردستی گزرے b. رُک کر راستہ دے c. رفتار کم کر کے آہستہ گزرے d. مسلسل ہارن دے	b
254.	بزرگ شہری جب سڑک پر ملے تو ڈرائیور کو لازمی _____	a. پہلے رفتار بڑھا کر گزرے b. پیچھے سے گزرے c. رفتار کم کر کے اس کو پہلے گزرنے دے گا d. مسلسل ہارن دے کر اس کو خبردار کرے	c
255.	ناہینا افراد کے سڑک سے گزرنے پر ڈرائیور کو لازمی _____	a. ہارن دے کر راستہ دے b. تیزی سے گزر جائے c. پیچھا کرے d. رفتار کم کر کے راستہ دے	d
256.	غیر ہموار سڑک سے گزرتے وقت ڈرائیور کو لازمی _____	a. نہایت آہستہ ہو کر گزرے b. رفتار بڑھا کر گزرے c. نیوٹرل کر کے گزرے d. اپنی سپیڈ میں گزرے	a



## ڈرائیورز لائسنسنگ امتحانی

## ڈرائیورز لائسنسنگ امتحانی

b	a. اگلی اور پچھلی فوگ لائسنس b. ڈبل اشارے c. فُل ہیڈ لائسنس d. ریورس لائسنس	263.	دوران بارش عارضی طور پر گاڑی روکنے کی صورت میں ڈرائیور _____ لازمی آن کریگا
d	a. اگلی اور پچھلی فوگ لائسنس b. ریورس لائسنس c. فُل ہیڈ لائسنس d. ڈبل اشارے	264.	دوران ٹرالہ باری عارضی طور پر گاڑی روکنے کی صورت میں ڈرائیور لازمی _____ آن کریگا
c	a. اپنی رفتار میں رہے b. رفتار بڑھائے اور لائن نظر انداز کریں c. رفتار کم کرے یاڑ کے تاکہ وہ سُر جائے d. آپ بھی ہیڈ لائسنس تیز کریں	265.	رات کی ڈرائیونگ میں اگر مخالف سمت سے آنے والی گاڑی ہیڈ لائسنس مدہم نہ کرے تو ڈرائیور کو چاہیے کہ _____
d	a. اپنی رفتار میں رہے b. مسلسل ہارن دے کر اُس کو سُر نے کا اشارہ دے c. رفتار بڑھا دے اور سُرے d. ہارن دے اور رفتار کم کرے	266.	دوران بارش جب پیدل شخص چھتری یا برساتی پہنے سڑک کے ساتھ جا رہا ہو تو ڈرائیور کو لازم ہے کہ _____
a	a. درست b. غلط c. مجھے پتہ نہیں d. ان میں سے کوئی نہیں	267.	لین تبدیلی کے وقت ڈرائیور ٹریک کی صورت حال دیکھے اشارہ لگائے، محفوظ درمیانی فاصلہ رکھتے ہوئے مطلوبہ لین میں جائے

c	a. اچانک رفتار بڑھا کر سُر جائے b. جب قریب پہنچے تو ہارن دے c. مناسب فاصلے سے ہارن دے اور رفتار پہلے سے کم کر لے d. نزدیک سے پچھا کرے	260.	جانوروں سے کھینچی جانے والی گاڑی اگر سڑک پر مل جائے تو ڈرائیور لازمی _____
d	a. رفتار بڑھا کر اس کریں پہلے ہی سے رفتار بڑھا دے اور اس کو اس کر لے c. اپنی رفتار میں آگے جائے اور اپنے حق کے مطابق راستہ نہ دیں d. رفتار کم کریں اُسے سُر نے دیں یا اگر ضروری ہو تو سُرک کر راستہ دیں	261.	اگر چوک پر ایک گاڑی کے رائٹ آف وے کی خلاف ورزی اگلی گاڑی اُس کے آگے اچانک آکر کرتی ہے تو _____
c	a. گاڑی کو مخالف سمت میں روک لے b. ایک دوسرے کے برابر روک لے c. مخالف سمت یا برابر گاڑی کھڑی کرنے کی اجازت نہیں ہے d. اُس وقت تک رُک سکتے ہیں جب تک اُس کا رکنا مناسب ہو	262.	اگر کوئی گاڑی عارضی طور پر سڑک کے سائیڈ پر کھڑی ہوتی ہے تو ڈرائیور کو _____

## ڈرائیورز اسٹنگ اتھارٹی

a	.a. درست .b. غلط .c. مجھے پتہ نہیں .d. ان میں سے کوئی نہیں	274.	رپورس کرنے سے پہلے ڈرائیور سڑک پر دونوں جانب سے آنے والی ٹریفک کا مشاہدہ کرے اور کسی بھی وقت رکتا پڑے تو رُک جائے
b	.a. درست .b. غلط .c. مجھے پتہ نہیں .d. ان میں سے کوئی نہیں	275.	اوور ٹیکنگ کے دوران اگر مخالف سمت سے گاڑی آجائے تو ڈرائیور پہلے سے رفتار بڑھا کر اوور ٹیک کر لے
a	.a. درست .b. غلط .c. مجھے پتہ نہیں .d. ان میں سے کوئی نہیں	276.	ٹرنگ سے گزرتے ہوئے اوور ٹیکنگ منع ہے
a	.a. درست .b. غلط .c. مجھے پتہ نہیں .d. ان میں سے کوئی نہیں	277.	ریلوے کراسنگ سے گزرتے ہوئے اوور ٹیکنگ منع ہے
b	.a. درست .b. غلط .c. مجھے پتہ نہیں .d. ان میں سے کوئی نہیں	278.	خطرناک موڑ پر اگر گاڑیاں کم ہوں تو اوور ٹیکنگ کی اجازت ہے
c	.a. مجھے پتہ نہیں .b. درست .c. غلط .d. ان میں سے کوئی نہیں	279.	جب اگلی گاڑی بوٹن پر رک رہی ہو یا لین تبدیل کر رہی ہو تو ڈرائیور تیزی سے اوور ٹیک کرے

## ڈرائیورز اسٹنگ اتھارٹی

a	.a. درست .b. غلط .c. مجھے پتہ نہیں .d. ان میں سے کوئی نہیں	268.	دائیں لین میں آنے سے پہلے ڈرائیور دایاں اشارہ لگا کر پہلے ٹریفک کی صورت حال دیکھے محفوظ درمیانی فاصلہ رکھے اور دائیں لین میں آجائے
a	.a. درست .b. غلط .c. مجھے پتہ نہیں .d. ان میں سے کوئی نہیں	269.	جب گاڑی لین تبدیل کرے تو مطلوبہ لین میں آنے سے پہلے ڈرائیور کو چاہئے کہ اشارہ لگائے
a	.a. درست .b. غلط .c. مجھے پتہ نہیں .d. ان میں سے کوئی نہیں	270.	زیر کراسنگ پر پیدل اشخاص کو راستہ دینا لازمی ہے
a	.a. غلط .b. درست .c. مجھے پتہ نہیں .d. ان میں سے کوئی نہیں	271.	عارضی رکنے کے بعد دوبارہ چلنے پر ڈرائیور ہارن دے کر دائیں لین والی گاڑیوں کو متنبہ کریگا
a	.a. درست .b. غلط .c. مجھے پتہ نہیں .d. ان میں سے کوئی نہیں	272.	ڈرائیور گاڑی اشارت کرنے کے بعد چلنے سے پہلے ٹریفک کو دیکھے گا
b	.a. درست .b. غلط .c. مجھے پتہ نہیں .d. ان میں سے کوئی نہیں	273.	ڈرائیور گاڑی اشارت کرنے کے بعد رفتار بڑھا کر اچانک دائیں لین میں آجائے گا

## ڈرائیورز لائسنسنگ امتحانی

## ڈرائیورز لائسنسنگ امتحانی

a	.a غلط .b درست .c مجھے پتہ نہیں .d ان میں سے کوئی نہیں	286.	جب جانور سڑک کو کراس کرتے ہوئے ٹریفک میں زکاوٹ کا سبب بنے تو ڈرائیور مسلسل ہارن دے کر اُسے ڈرائے
a	.a درست .b غلط .c مجھے پتہ نہیں .d ان میں سے کوئی نہیں	287.	جب اگلی گاڑی غیر محفوظ طریقے سے جا رہی ہو تو ڈرائیور رضا کارانہ طور پر اُسے راستہ دے تاکہ حادثے سے بچ سکے
a	.a غلط .b درست .c مجھے پتہ نہیں .d ان میں سے کوئی نہیں	288.	جب پیدل اشخاص دانستہ طور پر گاڑی کو راستہ نہ دیں تو ڈرائیور مسلسل ہارن دے اور راستہ لے
a	.a درست .b غلط .c مجھے پتہ نہیں .d ان میں سے کوئی نہیں	289.	جب گاڑی کا زیادہ دیر تک رکتا مقصود ہو تو ڈرائیور لازمی طور پر کار پارکنگ میں رُو کے
b	.a انتہائی بائیں لین .b درمیانی لین .c انتہائی دائیں لین .d کسی بھی لین	290.	تین لین والی موٹروے پر کار جس کی رفتار 90 تا 120 کلومیٹر فی گھنٹہ ہو تو کس لین میں چلائی جائے؟
a	.a 50 میٹر .b 100 میٹر .c 110 میٹر .d 120 میٹر	291.	جب ایک گاڑی موٹروے پر 100 کلومیٹر فی گھنٹہ کی رفتار سے جا رہی ہو تو اگلی گاڑی سے اُسکا محفوظ درمیانی فاصلہ کیا ہوگا؟

b	.a درست .b غلط .c مجھے پتہ نہیں .d ان میں سے کوئی نہیں	280.	جب کوئی گاڑی آپ کو اوور ٹیک کر رہی ہو تو آپ اپنی گاڑی کی رفتار بڑھا کر اُسے ایسا کرنے سے روک دیں
a	.a درست .b غلط .c مجھے پتہ نہیں .d ان میں سے کوئی نہیں	281.	چوک کراس کرنے سے پہلے ڈرائیور رفتار کم کرے جائزہ لے اور جب محفوظ ہو تو کراس کرے
b	.a درست .b غلط .c مجھے پتہ نہیں .d ان میں سے کوئی نہیں	282.	بغیر آدمی کے ریلوے کراسنگ سے گزرتے ہوئے اگر ٹرین نہ آ رہی ہو تو ڈرائیور رفتار بڑھا دے اور گزر جائے
a	.a غلط .b درست .c مجھے پتہ نہیں .d ان میں سے کوئی نہیں	283.	گول چکر میں داخل ہوتے ہوئے ڈرائیور لازمی طور پر دایاں اشارہ لگائے
a	.a درست .b غلط .c مجھے پتہ نہیں .d ان میں سے کوئی نہیں	284.	اگر پیدل اشخاص اچانک سڑک پر آجائیں تو ڈرائیور رفتار کم کرے اور انہیں سڑک کراس کرنے دے۔
a	.a درست .b غلط .c مجھے پتہ نہیں .d ان میں سے کوئی نہیں	285.	اگر اچانک جانور سڑک پر آجائے اور سوار یوں اور سامان کے لئے کوئی خطرہ نہ ہو تو ڈرائیور اسے گزرنے دے



## ڈرائیورز لائسنسنگ امتحانی

## ڈرائیورز لائسنسنگ امتحانی

a	.a. درست .b. غلط .c. مجھے پتہ نہیں .d. ان میں سے کوئی نہیں	296.	سڑک پر اترائی شروع ہونے سے پہلے ڈرائیور رفتار کو گیتز تبدیل کر کے کنٹرول کریگا
a	.a. درست .b. غلط .c. مجھے پتہ نہیں .d. ان میں سے کوئی نہیں	297.	چڑھائی پر چڑھتے ہوئے ڈرائیور پہلے ہی سے جھونے گیروں میں گاڑی چڑھائے گا تاکہ گاڑی کا تسلسل نہ ٹوٹے
a	.a. درست .b. غلط .c. مجھے پتہ نہیں .d. ان میں سے کوئی نہیں	298.	خطرناک پہاڑی راستے سے گزرتے وقت ڈرائیور احتیاط کرے اور بلاوجہ نہ رُکے
d	.a. ڈبل اشارے .b. فل لائٹ .c. ٹوگ لائٹ .d. مدھم ہیڈ لائٹ	299.	دو طرفہ سڑک والی سڑگ میں داخلے کی صورت میں ڈرائیور لازمی _____ آن کریگا
b	.a. ٹوگ لائٹ .b. مدھم ہیڈ لائٹ .c. فل لائٹ .d. ڈبل اشارہ	300.	رات کے وقت ایسی سڑک جہاں روشنی کا خوب انتظام ہو تو ڈرائیور لازمی _____ آن کریگا

b	.a. ریورس کر کے اصل مقام پر آنے .b. مسلسل آگے جائے اور اگلے انٹرچینج سے نکل جائے .c. اچانک رُک جائے .d. یوٹرن لے	292.	موٹروے پر سفر کرتے ہوئے اگر ڈرائیور مطلوبہ انٹرچینج سے نکلنا بھول جائے تو لازم ہے کہ _____
a	.a. غلط .b. درست .c. مجھے پتہ نہیں .d. ان میں سے کوئی نہیں	293.	موٹروے پر حادثے سے رکاوٹ پیدا ہونے کی صورت میں گاڑیاں بارڈر شوولڈر پر سفر کر سکتی ہیں
b	.a. کم فاصلہ رکھے .b. محفوظ درمیانی فاصلہ .c. بڑھالے .d. محفوظ درمیانی فاصلے کو کم کر لے	294.	ڈرائیور کو چاہیے کہ پہاڑی راستے پر اگلی گاڑی سے _____
c	.a. انجن کی عمر کو کم کر دیتی ہے .b. ڈرائیور کی محنت کو بڑھا دیتی ہے .c. بریک کے گرم ہونے سے بریک لگنے کی صلاحیت کم ہو جاتی ہے .d. گاڑی اچانک آٹ سکتی ہے	295.	اترتی ہوئی سڑک پر مسلسل بریک کے استعمال سے _____

## ڈرائیورز لائسنسنگ امتحانی

## ڈرائیورز لائسنسنگ امتحانی

306.	برف والی سڑک پر گاڑی چلاتے ہوئے ڈرائیور لازمی طور پر _____ اور مضبوطی سے سلیٹرنگ کو تھامے گا	a. رفتار برقرار رکھے گا b. رفتار بڑھالے گا c. رفتار کم کرے گا d. رفتار برقرار رکھے	c
307.	برف سے ڈھکے ہوئے پہاڑی راستے پر جب اگلی گاڑی چڑھائی چڑھ رہی ہو تو پچھلی گاڑی _____	a. مناسب مقام دیکھ کر رک جائے اگلی گاڑی کے چڑھنے کے بعد چڑھے b. تیزی سے اگلی گاڑی کو ادور ٹیک کر لے c. آہستہ چڑھے d. تعاقب کرے اور چڑھے	a
308.	بارش کے دوران گیلی سڑک پر بریک لگانے کا فاصلہ بڑھ جاتا ہے ڈرائیور کو چاہیے کہ محفوظ درمیانی فاصلہ بڑھائے	a. درست b. غلط c. مجھے پتہ نہیں d. ان میں سے کوئی نہیں	a
309.	دھند والے دنوں میں ڈرائیور کو چاہئے کہ وہ باقاعدگی سے فوگ لائسنس اور مدہم ہیڈ لائٹس آن رکھے	a. درست b. غلط c. مجھے پتہ نہیں d. ان میں سے کوئی نہیں	a
310.	تیز بارش میں ڈرائیورنگ کے دوران ڈرائیور کو چاہئے کہ سپیڈ پر کنٹرول کرے اور پھسلن سے بچنے کی کوشش کرے	a. درست b. غلط c. مجھے پتہ نہیں d. ان میں سے کوئی نہیں	a

301.	رات کو کمراسنگ کے وقت سامنے سے آنے والی گاڑیوں کی ہیڈ لائٹس سے آنکھوں کو متاثر ہونے سے بچانے کے لیے _____	a. دائیں طرف دیکھے اور سیدھا کم رفتار پر جائے b. بائیں طرف دیکھے اور رفتار کم کرے c. دائیں طرف دیکھے اور کم رفتار پر جائے d. بائیں طرف دیکھے اور زیادہ رفتار پر جائے	b
302.	جب موٹر گاڑی کو تنگ سڑک یا پل پر سے کراس کر رہے ہوں تو ڈرائیور لازمی _____ استعمال کرے گا	a. فل لائٹ b. مدہم ہیڈ لائٹ c. ڈبل اشارہ d. فوگ لائٹ	b
303.	دن کی نسبت رات کی ڈرائیورنگ مشکل ہوتی ہے کیونکہ ڈرائیور کی حد نگاہ کم ہو جاتی ہے	a. درست b. غلط c. مجھے پتہ نہیں d. ان میں سے کوئی نہیں	a
304.	رات کی ڈرائیورنگ سے ڈرائیور کو تھکاوٹ نہیں ہوتی	a. غلط b. درست c. مجھے پتہ نہیں d. ان میں سے کوئی نہیں	a
305.	رات کو ڈرائیورنگ کے دوران اگر مخالف سمت سے آنے والی گاڑی ہیڈ لائٹس مدہم نہ کرے تو ڈرائیور لازمی رفتار کم کرے	a. غلط b. درست c. مجھے پتہ نہیں d. ان میں سے کوئی نہیں	b

## ڈرائیورز لائسنسنگ امتحانی

b	<p>a. تیزی کے ساتھ سٹیئرنگ کو گھمائے</p> <p>b. دونوں ہاتھوں سے مضبوطی سے سٹیئرنگ کو پکڑ رکھے</p> <p>c. تیزی کے ساتھ سٹیئرنگ کو مخالف سمت میں گھمائے</p> <p>d. تیزی کے ساتھ بریک لگائے</p>	<p>316. بچھلے ٹائر کے پھٹنے پر ڈرائیور کو چاہیے کہ _____</p>	
a	<p>a. غلط</p> <p>b. درست</p> <p>c. مجھے پتہ نہیں</p> <p>d. ان میں سے کوئی نہیں</p>	<p>317. جب ڈرائیور کو معلوم ہو جائے کہ گاڑی کا ٹائر پنچر ہے تو وہ تیزی سے بریک لگائے</p>	
a	<p>a. درست</p> <p>b. غلط</p> <p>c. مجھے پتہ نہیں</p> <p>d. ان میں سے کوئی نہیں</p>	<p>318. جب ایک چلتی ہوئی گاڑی کو ایمر جنسی کا سامنا ہو جائے تو ڈرائیور پہلے اس سے بچنے کی کوشش کرے اور بعد میں بریک لگائے</p>	
b	<p>a. غلط</p> <p>b. درست</p> <p>c. مجھے پتہ نہیں</p> <p>d. ان میں سے کوئی نہیں</p>	<p>319. اگلے ٹائر کے پھٹنے سے گاڑی کی سمت تبدیل ہوتی ہے لہذا اس سے بچنے کے لیے ڈرائیور سٹیئرنگ قابو میں رکھے تاکہ گاڑی سیدھی سمت میں جائے</p>	

## ڈرائیورز لائسنسنگ امتحانی

a	<p>a. غلط</p> <p>b. درست</p> <p>c. مجھے پتہ نہیں</p> <p>d. ان میں سے کوئی نہیں</p>	<p>311. تیز دھند میں نظر آنا کم ہو جاتا ہے، فُل ہیڈ لائٹس آن کرنے سے دیکھنے میں آسانی پیدا ہوتی ہے</p>	311.
b	<p>a. غلط</p> <p>b. درست</p> <p>c. مجھے پتہ نہیں</p> <p>d. ان میں سے کوئی نہیں</p>	<p>312. برف سے ڈھکی ہوئی سڑک پر ڈرائیور لازماً رفتار کم رکھے اور محفوظ درمیانی فاصلے میں اضافہ کرے</p>	312.
a	<p>a. درست</p> <p>b. غلط</p> <p>c. مجھے پتہ نہیں</p> <p>d. ان میں سے کوئی نہیں</p>	<p>313. بر فباری کے دنوں میں ڈرائیورنگ کرتے ہوئے ڈرائیور کو چاہئے کہ وہ اگلی گاڑی کے ٹائروں کے نشان پر چلے۔</p>	313.
a	<p>a. درست</p> <p>b. غلط</p> <p>c. مجھے پتہ نہیں</p> <p>d. ان میں سے کوئی نہیں</p>	<p>314. ڈھند کے دنوں میں ڈرائیورنگ کرتے ہوئے ڈرائیور کو چاہئے کہ ہارن کا زیادہ سے زیادہ استعمال کریں تاکہ مخالف سمت سے آنے والی گاڑیوں کو باخبر کرے</p>	314.
a	<p>a. غلط</p> <p>b. درست</p> <p>c. مجھے پتہ نہیں</p> <p>d. ان میں سے کوئی نہیں</p>	<p>315. جب گاڑی پانی میں سے گزر رہی ہو تو اسکی بریک کی کارکردگی میں تبدیلی نہیں آتی</p>	315.



## ڈرائیورز اسٹینڈنگ امتحانی

## ڈرائیورز اسٹینڈنگ امتحانی

a	.a. درست .b. غلط .c. مجھے پتہ نہیں .d. ان میں سے کوئی نہیں	325.	جب گاڑی کی بریک کام کرنا چھوڑ دے تو ڈرائیور کا پہلا کام یہ ہے کہ رفتار کم کرنے سے پہلے گاڑی کے رخ پر قابو رکھے
b	.a. غلط .b. درست .c. مجھے پتہ نہیں .d. ان میں سے کوئی نہیں	326.	جب اترائی پر اچانک گاڑی کی بریک کام کرنا چھوڑ دے اور ڈرائیور کے پاس گاڑی روکنے کا کوئی متبادل ذریعہ نہ ہو تو سٹرک کے سائینڈ پر حفاظتی دیوار سے رگڑ کر رفتار کم کرنے کی کوشش کرے
b	.a. خشک، بجری کی سٹرک .b. سٹرک جس پر بارش شروع ہوئی ہو .c. گیلی، بجری کی سٹرک .d. تیز بارش میں سٹرک	327.	_____ کی سطح پر عموماً پھسلن ہو سکتی ہے
a	.a. درست .b. غلط .c. مجھے پتہ نہیں .d. ان میں سے کوئی نہیں	328.	جب گاڑی زیادہ رفتار میں موڑ کاٹ رہی ہو تو آسانی سے ایک طرف پھسل سکتی ہے
a	.a. درست .b. غلط .c. مجھے پتہ نہیں .d. ان میں سے کوئی نہیں	329.	مٹی یا پھسلن والی روڈ پر ایمر جنسی بریک لگانے سے گاڑی الٹ سکتی ہے یا دوسری گاڑیوں کیساتھ ٹکرا سکتی ہے
a	.a. رفتار کم رکھیں .b. رفتار بڑھادیں .c. آلات نصب کریں .d. ٹائز میں ہوا زیادہ رکھیں	330.	جب ایکسپیریس وے پر تیز بارش میں ڈرائیونگ کر رہے ہوں تو _____

a	.a. غلط .b. درست .c. مجھے پتہ نہیں .d. ان میں سے کوئی نہیں	320.	چلتی گاڑی کا ٹائز پھٹ جانے کی صورت میں ڈرائیور کو چاہیے کہ ایمر جنسی بریک لگا کر گاڑی کو روک لے
a	.a. رفتار کو کم کرے اور گاڑی کو جتنی جلدی ہو سکے روک لے .b. کسی محفوظ جگہ پر روک لے .c. ڈرائیونگ کو جاری رکھے .d. وجہ معلوم کریں	321.	جب ڈرائیور کو معلوم ہو جائے کہ گاڑی کا سٹیرنگ سخت ہو چکا ہے تو اس کو چاہیے کہ _____
a	.a. درست .b. غلط .c. مجھے پتہ نہیں .d. ان میں سے کوئی نہیں	322.	جب چلتی گاڑی کا سٹیرنگ کام کرنا چھوڑ دے تو ایمر جنسی بریک لگانے سے گاڑی الٹ سکتی ہے
a	.a. بجری کی سٹرک .b. مٹی کی سٹرک .c. سٹرک جس پر برف پڑی ہو .d. ریت کی سٹرک	323.	کوئی سٹرک پر بریک لگانے سے آسانی سے گاڑی رُک سکتی ہے
a	.a. درست .b. غلط .c. مجھے پتہ نہیں .d. ان میں سے کوئی نہیں	324.	جب گاڑی کی بریک کام کرنا چھوڑ دے تو ڈرائیور کو چاہیے کہ پہلے لوگوں کو بچائے پھر چیزوں کو اور پھر رکاوٹوں سے گاڑی کو بچانے کی کوشش کرے

b	a. غلط b. درست c. مجھے پتہ نہیں d. ان میں سے کوئی نہیں	335.	ایکسپریس وے پر تیز بارش کے دوران ڈرائیونگ کرتے ہوئے ڈرائیور کو چاہئے کہ اپنی رفتار کم رکھے
c	a. مجھے پتہ نہیں b. درست c. غلط d. ان میں سے کوئی نہیں	336.	ایکسپریس وے پر بارش میں گاڑی کو روکنا پڑے تو ڈرائیور کیرج وے پر گاڑی روک سکتا ہے
a	a. غلط b. درست c. مجھے پتہ نہیں d. ان میں سے کوئی نہیں	337.	جب گاڑی ایکسپریس وے کی کیرج وے کو کسی خرابی کی وجہ سے چھوڑنے کے قابل نہ ہو تو ڈرائیور ایمرجنسی میں گاڑی کی مرمت کر سکتا ہے
a	a. درست b. غلط c. مجھے پتہ نہیں d. ان میں سے کوئی نہیں	338.	جب تک گاڑی کسی زکاوٹ یا فنی خرابی کی وجہ سے ایکسپریس وے پر کھڑی نہ ہو تو سوار یوں کو چڑھانا یا اتارنا یا سامان کو لادنے یا اتارنے کی اجازت نہ ہے
b	a. درست b. غلط c. مجھے پتہ نہیں d. ان میں سے کوئی نہیں	339.	اگر گاڑی حادثاتی طور پر ایکسپریس وے کی حفاظتی دیوار سے ٹکرائے تو ڈرائیور کو چاہئے کہ تیزی کیساتھ سٹیئرنگ مخالف سمت میں گھمائے
b	a. غلط b. درست c. مجھے پتہ نہیں d. ان میں سے کوئی نہیں	340.	جب گاڑی کو سڑک کے اختتام پر تیز ہوا کے دباؤ کا سامنا کرنا پڑے تو ڈرائیور کو چاہئے کہ مضبوطی سے سٹیئرنگ کو پکڑے

b	a. روڈ کے ساتھ گاڑی کے اگلے دائیں طرف کھڑے ہو جائیں b. گاڑی سے اترنے یا ارد گرد گھومنے سے پرہیز کریں c. ہارڈ شوولڈر کے ساتھ یا ایمرجنسی پیٹ پر کھڑے ہو جائیں d. تیزی سے روڈ کی طرف جائیں اور گاڑی کے پیچھے دائیں طرف کھڑے ہو جائیں	331.	جب گاڑی کو ایمرجنسی میں ایکسپریس وے پر رکننا پڑے تو ڈرائیور اور مسافروں کو چاہئے کہ _____
d	a. ڈھلوان میں b. سٹ رو میں c. تیز رو میں d. سرواں ایریا میں	332.	جب موٹر وے پر حالات درست نہ ہوں تو ڈرائیور کو چاہئے کہ _____ کے
b	a. غلط b. درست c. مجھے پتہ نہیں d. ان میں سے کوئی نہیں	333.	ایکسپریس وے پر تیزی سے گاڑی موڑنے سے ایک طرف کھسک جانے یا الٹ جانے کا سبب بن سکتی ہے
a	a. درست b. غلط c. مجھے پتہ نہیں d. ان میں سے کوئی نہیں	334.	بارش میں ایکسپریس وے پر ٹائروں اور سڑک کے درمیان رگڑ کم ہو جاتی ہے جس کی وجہ سے سڑک کی سطح پر پھسلن ہو سکتی ہے





<p>سوال نمبر 35۔ کسی بڑی ٹرک سے جھوٹی ٹرک میں بائیں طرف مڑنے کے لیے گاڑی کی پوزیشن کہاں ہونی چاہیے؟</p> <p>(A) ٹرک کے درمیان سے بائیں طرف (B) ٹرک کے درمیان میں (C) مڑنے سے پہلے بائیں طرف جھماکر (D) روڑ کے بائیں طرف</p> <p>جواب: D</p>		<p>سوال نمبر 1۔ اگر گاڑی کا پیچھا حصہ سلیپ کرنا شروع کرو سقے ڈرائیو کو کیا کرنا چاہیے؟</p> <p>(A) اسٹیئرنگ دوسری طرف (بائیں طرف) جھمانا چاہیے (B) اسٹیئرنگ ہی طرف جھمانا چاہیے (C) اسٹیئرنگ بائیں نہیں جھمانا چاہیے (D) بیلڈر کیسٹ گاٹی چاہیے</p> <p>جواب: B</p>
<p>سوال نمبر 36۔ گاڑی کھڑی کرنے کے بعد انجن کو سٹارٹ چھوڑنا ڈرائیو کے لیے غریب قانونی ہے جب تک کہ وہ۔۔۔؟</p> <p>(A) سامان اتار رہا ہو (B) گاڑی کے اندر بیٹھا ہو (C) گاڑی کی نظری کی ضرورت ہوگئی ہے</p> <p>جواب: B</p>		<p>سوال نمبر 2۔ اگر آپ نے دھند میں گاڑی ڈرائیو کرتی ہوتے آپ (ڈرائیو) کو کیا کرنا چاہیے؟</p> <p>(A) اپنی گاڑی آگے والی گاڑی کی پچھلی لائٹس کے نزدیک کھینچی جائے (B) اپنے سٹر کے لیے زیادہ وقت کرنا چاہیے (C) ڈیڑھ اور اوپر استعمال نہ کریں (D) دوسری گاڑی کے پیچھے دو سینکڑا کا وقت رکھنا چاہیے</p> <p>جواب: B</p>
<p>سوال نمبر 37۔ اگر آپ 70 میل فی گھنٹہ کی رفتار سے جا رہے ہیں اور آپ تک (بھری) رکنا پڑے گا کتنے فاصلے پر کھڑی ہو جائی چاہیے؟</p> <p>(A) 240 فٹ (B) 285 فٹ (C) 315 فٹ</p> <p>جواب: C</p>		<p>سوال نمبر 3۔ اگر آپ دھند میں دوسری گاڑی کے پیچھے لائٹس جلا کر ڈرائیو کر رہے ہیں تو آپ (ڈرائیو) کس طرح ایک ہیڈ لٹ ہونے کے چائٹس (خداشات) کم کر سکتے ہیں؟</p> <p>(A) آگے والی گاڑی کے بائیں ساتھ رکھنے سے (B) جھوٹی لائٹس کے بجائے ہم لائٹس استعمال کرنے سے (C) رفتار کم کر اور میٹائی فاصلہ زیادہ رکھنے سے (D) تیز گاڑی کے پیچھے ساتھ رکھنے سے</p> <p>جواب: C</p>
<p>سوال نمبر 38۔ اگر ہڈوں میں ہوا کم رکھ کر گاڑی چلائیں تو کیا پڑے گا؟</p> <p>(A) انجن گرم ہو جائے گا (B) ہڈیوں پر زیادہ دباؤ پڑے گا (C) ایک پر زیادہ دباؤ پڑے گا</p> <p>جواب: C</p>		<p>سوال نمبر 4۔ دھند میں ڈرائیو کے دوران دوسری گاڑی کے پیچھے زیادہ فاصلہ کیوں رکھنا چاہیے؟</p> <p>(A) اچانک کار کی سمت تبدیل کرنے کی وجہ سے (B) اچانک کھڑا ہونے کی وجہ سے (C) دھند والی لائٹس آنکھوں میں پڑنے کی وجہ سے (D) اس کی وجہ سے لائٹس آنکھوں میں پڑنے کی وجہ سے</p> <p>جواب: A</p>
<p>سوال نمبر 39۔ کار کے مسافروں کو بیٹن بلیٹ پہننا ضروری ہوتا ہے، ماسوائے ایک وجہ کے وہ کیا ہے؟</p> <p>(A) چودہ سال سے کم عمر والے بچوں کو (B) پانچ فٹ یا 1.5 میٹر کا قدر کھنے والوں کو (C) کچھیل بیٹن پر بیٹھنے والوں کو (D) اگر ڈاکٹر کا حقیقت ہوتے</p> <p>جواب: D</p>		<p>سوال نمبر 5۔ ریورس کرنا منع ہے۔۔۔ کہاں؟</p> <p>(A) ضرورت سے زیادہ لمبا (B) کار کی لمبائی سے زیادہ (C) رہائشی علاقہ میں (D) جھوٹی ٹرک میں</p> <p>جواب: A</p>
<p>سوال نمبر 40۔ بڑے ٹیک سائین جو احکامات دیتے ہیں وہ زیادہ تر سرش وائز میں ہوتے ہیں سوائے ایک کے وہ کون سا ہے؟</p> <p>(A) بائیں طرف مڑنے سے منع کرنے والا سائین (No Left Turn) (B) آگے سے آنے والی بڑے ٹیک پر آپ کا حق دکھانے والا سائین (Priority Over Vehicle) (C) راستہ دو "لاسا سائین" (Give Way)</p> <p>جواب: C</p>		<p>سوال نمبر 8۔ اگر گاڑی کا ہانڈ پچھت جائے تو آپ کو کون سے دو عمل کرنے چاہئیں؟</p> <p>(A) گاڑی کو فوراً روکنا اور ہانڈ دینا چاہیے (B) اسٹیئرنگ میل کو منظر میں سے ہٹانا چاہیے (C) ریورس گیر لگا کر گاڑی کو روکنا چاہیے (D) ہانڈ سے اشارہ کرنا چاہیے اور ریورس کو استعمال کر کے کھڑا کر لینا چاہیے (E) جتنی جلد ہو سکے گا روکنا اور کھڑا کر لینا چاہیے</p> <p>جواب: A, B</p>

<p>سوال نمبر 41۔ آپ کو دھندوئی لائنس کب جلائی جائیں گی؟</p> <p>(A) جب آپ کو کارکنی کرنے کے فاصلے سے زیادہ دور نظر نہ آئے</p> <p>(B) جب آپ کو 100 میٹر (330 فٹ) سے زیادہ دور نظر نہ آتا ہو</p> <p>(C) جب آپ کو کون کاروں کی لمبائی سے زیادہ دور نظر نہ آتا ہو</p> <p>(D) جب آپ کو 10 میٹر (33 فٹ) سے زیادہ دور نظر نہ آتا ہو</p> <p>جواب: B</p>		<p>سوال نمبر 7۔ اچھے موسم میں 30 میل فی گھنٹہ کی رفتار سے اگر اچھے موسم کی گاڑی کو کڑی کر لیا جائے تو کتنے فاصلے پر گاڑی ہو جائی گی؟</p> <p>(A) تین کاروں کی لمبائی (بارہ میٹر)</p> <p>(B) چار میٹر (فٹ)</p> <p>(C) دو کاروں کی لمبائی (آٹھ میٹر)</p> <p>(D) ایک کار کی لمبائی (چار میٹر) (تیرہ فٹ)</p> <p>جواب: B</p>
<p>سوال نمبر 42۔ اگر آپ کو کسی دوسری کار کو اور ٹیک کرنا چاہیں تو آپ کو کیا یقین کر لیا جائیگا؟</p> <p>(A) اور ٹیک کرنے سے پہلے ہیڈ لائٹ فلاش کر لینی چاہیے</p> <p>(B) گھنٹی دھندوئی لائنس جلائی جائیے</p> <p>(C) اور ٹیک کرنے سے پہلے فل ہیم لائنس جلائی جائیے</p> <p>(D) دوسرے گاڑی کی آئینوں میں روشنی پڑنے سے بچانا چاہیے</p> <p>جواب: D</p>		<p>سوال نمبر 8۔ ان میں سے کس صورت میں (موقعہ پر) اگلی گاڑی کو کراس کرنے سے پرہیز کرنا چاہیے؟</p> <p>(A) ہوا ڈکے فور ایگد</p> <p>(B) ٹیکسٹر ٹرک میں</p> <p>(C) جہاں ٹرک کی رفتار 30 میل فی گھنٹہ ہو</p> <p>(D) کسی ڈھلان میں پہنچنے پر</p> <p>جواب: D</p>
<p>سوال نمبر 43۔ آپ ایک ایسی کار کے پیچھے ڈرائیونگ کر رہے ہیں جس کا ڈرائیو ایک یوڑھا آدمی ہے لہذا اس صورت میں کیا کرنا چاہیے؟</p> <p>(A) ہیڈ لائٹ فلاش کر کے اور ٹیک کرنا چاہیے</p> <p>(B) ہانگھل ساتھ ساتھ ٹرانس جلائی جائیے</p> <p>(C) قصور کریں کہ ڈرائیو ٹرک ڈرائیونگ کرے گا</p> <p>(D) چونکہ آپ ڈرائیو کار میں شامل ہیں لہذا ڈرائیونگ کرنا چاہیے</p> <p>جواب: D</p>		<p>سوال نمبر 9۔ کار کے پیچھے (سپ ہونے) کا اصل سبب کون بنتا ہے؟</p> <p>(A) موسم</p> <p>(B) ڈرائیو</p> <p>(C) گاڑی</p> <p>(D) ٹرک</p> <p>جواب: B</p>
<p>سوال نمبر 44۔ ماں میں سے کس حالت میں آپ سیٹ بیلٹ کھول سکتے ہیں؟</p> <p>(A) ریوس کرتے وقت</p> <p>(B) چڑھائی چڑھتے وقت</p> <p>(C) اور جنسی سٹاپ کرتے وقت</p> <p>(D) آہستہ چلائے وقت</p> <p>جواب: A</p>		<p>سوال نمبر 10۔ اسٹیرنگ بھاری کس وجہ سے ہوتا ہے؟</p> <p>(A) ہر فہر ڈرائیونگ کرنے سے</p> <p>(B) ہر ایک کیس کو ہونے سے</p> <p>(C) ٹائرز میں ہوا پراد ہونے سے</p> <p>(D) ٹائرزوں سے ہوا کم ہونے سے</p> <p>جواب: D</p>
<p>سوال نمبر 45۔ اگر آپ کو یقین نہیں کہ گاڑی ریوس کرنا محفوظ ہے تو کیا کرنا چاہیے؟</p> <p>(A) ہانگھل کرنا چاہیے</p> <p>(B) آئین کی زیادہ آواز پیدا کرنا چاہیے</p> <p>(C) ہانگھل کرنا چاہیے</p> <p>(D) ریوس آہستہ کرنا چاہیے</p> <p>جواب: C</p>		<p>سوال نمبر 11۔ رات کو کس ٹرک پر دائیں طرف گاڑی پارک کی جا سکتی ہے؟</p> <p>(A) ٹیکسٹر ٹرک (ون وے روڈ پر)</p> <p>(B) ٹیکسٹر ٹرک (ٹرانس لائنس) جلا کر</p> <p>(C) ٹرک سے 15 گز کے فاصلہ پر</p> <p>(D) ٹرک سے 15 گز کے فاصلہ پر</p> <p>جواب: A</p>
<p>سوال نمبر 46۔ ریوس کرنے کو دوران کس وقت دوسری ٹیک کو زیا دہ خطرہ ہوتا ہے؟</p> <p>(A) ریوس مکمل ہوجانے کے بعد</p> <p>(B) ریوس شروع کرنے سے پہلے</p> <p>(C) ٹیکسٹر ٹرک میں داخل ہونے کے بعد</p> <p>(D) اسٹیرنگ کو ہلکے ہلاتے وقت</p> <p>جواب: D</p>		<p>سوال نمبر 12۔ خطرے والی جگہ پہنچنے پر آپ کو سب سے پہلا کام (عمل) کیا کرنا چاہیے؟</p> <p>(A) فٹ پر ایک سٹمال کرنی چاہیے</p> <p>(B) سٹ تبدیل کر لینی چاہیے</p> <p>(C) گیس پیڈل کو چھوڑ دینا چاہیے</p> <p>(D) ٹیکسٹر ٹرک میں دیکھنا چاہیے</p> <p>جواب: D</p>
<p>سوال نمبر 47۔ ہر فہر ڈرائیونگ کرتے وقت گاڑی پر اچھی طرح کیسے کنٹرول کر سکتے ہیں؟</p> <p>(A) آہستہ چڑھتے اور نیچے چڑھتے میں مکمل ہو</p> <p>(B) ٹیکسٹر ٹرک میں رکھیں اور اسٹیرنگ کو کڑی میں چکریں</p> <p>(C) پہلے ٹیکسٹر ٹرک میں چلائیں</p> <p>(D) آئین کی آواز اونچی رکھیں اور نیچے رکھیں</p> <p>جواب: A</p>		<p>سوال نمبر 13۔ ڈرائیونگ کے طرز عمل بہت سست ہوجاتے ہیں۔ کب؟</p> <p>(A) تھکاوت سے</p> <p>(B) دھند میں</p> <p>(C) بہت جلدی میں</p> <p>(D) بارش میں</p> <p>جواب: A</p>

<p>سوال نمبر 48۔ ماؤز باؤٹ سے دائیں طرف مڑنا چاہتے ہیں اور ماؤز باؤٹ چھوڑنے سے پہلے کیا کرنا چاہیے؟          (A) ماؤز باؤٹ چھوڑنے سے پہلے بائیں کدھے سے اوپر دیکھنا چاہیے (B) ماؤز باؤٹ چھوڑنے سے پہلے دائیں کدھے سے اوپر دیکھنا چاہیے          (C) دائیں کا انڈیکسٹر دینا چاہیے (D) بائیں کا انڈیکسٹر بند کر دینا چاہیے          جواب: A</p>	<p>سوال نمبر 14۔ آپ کئی ایسی نشے والی چیز لے سکتے ہیں جس کا اثر ڈرائیونگ پر پڑتا ہے؟          (A) ڈرائیونگ سے پہلے کسی ڈاکٹر سے مشورہ (B) صرف ضروری سفر کر لیں          (C) ڈرائیونگ کریں اگر سڑکی کے پاس ٹل ڈرائیونگ لائسنس ہو (D) صرف تھوڑے فاصلے کے لیے ڈرائیونگ کریں          جواب: A</p>
<p>سوال نمبر 49۔ پیروں کو ہانکنے وہ (جو وہاں) اگر گاڑی کھڑی کرنے کے لیے کیچھو آچیکو کیا کرنا چاہیے؟          (A) اس کی کوئی پروا نہیں کرنی چاہیے کیونکہ یہ اس کے ایشیا میں نہیں (B) گاڑی کھڑی کر کے انجن بند کر دینا چاہیے          (C) آہستہ آہستہ گاڑی چلاتے رہنا چاہیے (D) کوشش کر کے تیزی سے گزر جانا چاہیے          جواب: B</p>	<p>سوال نمبر 15۔ آپ نے ڈرائیونر (ناچر پکار) سے کیسا ہاتھ (دھول) کر لیا ہے؟          (A) ہاتھ نہا کر اسے اپنی موجودگی سے آگاہ کریں گے (B) اس کے سٹ روٹل کی وجہ سے ممبر کے ساتھ تیار رہیں گے          (C) ہیڈ لائٹس فلیش کریں گے کہ گھبراہٹ سے جانے کے لیے راستہ محفوظ ہے (D) جتنی جلدی ہو سکے اس کو اور ٹیک (کراس) کر لیں گے          جواب: B</p>
<p>سوال نمبر 50۔ کار کے اسٹیئرنگ میں اگر حرکت (جھنجھٹ) بہتے کیا چیک کرنا چاہیے؟          (A) روڑز بند ہیں (B) ویلز پر (سوزاں) ہیں          (C) اسٹیئر (ایگریسٹ) ڈھیلے نہیں (D) انجن کا تیل مقدار کے برابر ہے          جواب: B</p>	<p>سوال نمبر 16۔ آگے والی گاڑی اگر کوئی کیچھو والا ڈرائیونر چلا رہا ہو تو کیا کرنا چاہیے؟          (A) ممبر اور ایشیاں کے ساتھ چلنا چاہیے (B) اس کے پیچھے قریب چلنا چاہیے          (C) ہیڈ لائٹس بھیم کے ساتھ چلنا چاہیے (D) ہاتھ نہا کر اور ٹیک کر جانا چاہیے          جواب: A</p>
<p>سوال نمبر 51۔ نئے ماڈرز پہلے کتنے سیلون تک معقول رفتار پر جانے چاہیے؟          (A) پہلے 500 میل (B) پہلے 100 میل          (C) پہلے 10 میل (D) پہلے 1000 میل          جواب: B</p>	<p>سوال نمبر 17۔ برف کے موسم میں موٹر کیسے ڈرائیونگ کرتی چاہیے؟          (A) سٹی اور ایک دو تیس استعمال کرنے چاہئیں (B) پہلے گیز استعمال کرنا چاہیے          (C) موڈ میں جوں ہی داخل ہوں تو یہ کیسا لگتا چاہیے (D) آہستہ آہستہ رام سے ڈرائیونگ کرتی چاہیے          جواب: D</p>
<p>سوال نمبر 52۔ گاڑی کی ہیڈ لائٹس کب آکھڑ اور چلائی چاہئیں؟          (A) ہر وقت (B) ٹھنڈک میں          (C) دھند میں اگر دور دکھائی نہ دے (D) جب گاڑی پارک ہو          جواب: C</p>	<p>سوال نمبر 18۔ ڈرائیونر کو کتنی مدت کے بعد تازگیوں کی ہوا چیک کرنی چاہیے؟          (A) جب بھی کار کو استعمال کرے (B) ہفتہ میں ایک بار          (C) مہینہ میں ایک بار          جواب: B</p>
<p>سوال نمبر 53۔ گاڑی کے بیرونی پیشے عام طور پر کتنے ہونے کیوں ہوتے ہیں؟          (A) تاکر آپ ان میں دور تک دیکھ سکیں (B) جہاں آپ کو نظر نہیں آتا ان میں دیکھ سکیں          (C) ان میں سے کچھ بڑے ٹیک کی رفتار کا اندازہ لگا سکیں (D) ان میں کچھ بڑے ٹیک بڑی دیکھائی دیتی ہے۔          جواب: A</p>	<p>سوال نمبر 19۔ آپ کسی گاڑی کے بہت پیچھے کار رکھ کر اور ٹیک (کراس) کرنے کے انتظار میں ہیں کئی دوسری گاڑی آپ کو اور ٹیک کر کے آپ کے آگے جانے تو پھر آپ کو کیا کرنا چاہیے؟          (A) ہاتھ نہانا چاہیے (B) اور پیچھے کر لینی چاہیے          (C) ہیڈ لائٹس فلیش کرنی چاہئیں (D) اور ٹیک کرنا شروع کر دینا چاہیے          جواب: B</p>
<p>سوال نمبر 54۔ گاڑی کی آئینوں میں سروں والی رینگے کیا ہوتا ہے؟ (دو جواب دیں)          (A) انٹرنس (بیمہ) کی رقم میں کمی ہو جاتی ہے (B) روڈ ٹیکس کی رقم واپس مل جاتی ہے          (C) پیٹرول میں بہت بچت ہو جاتی ہے (D) دھواں صاف ہو کر لگتا ہے          جواب: C &amp; D</p>	<p>سوال نمبر 20۔ جب بہت زیادہ برف پڑ رہی ہو تو کیا کرنا چاہیے؟          (A) جہاں تک ہیڈ لائٹ کی روشنی پڑتی ہے ہاتھ نہا کر ڈرائیونگ کریں (B) جب تک ہاتھ والا ٹیکسٹن پاس نہ ہو ڈرائیونگ نہ کریں          (C) تھوڑے فاصلے کے لیے ڈرائیونگ کریں (D) اگر ضروری ہے تو ڈرائیونگ کریں          جواب: D</p>



<p>سوال نمبر 55 گاڑی کو کھڑا کرنے کا فاصلہ کس وقت بہت بڑا ہوتا ہے؟</p> <p>(A) بارش میں (B) دھند میں (C) رات کو (D) تیز ہوا میں</p> <p>جواب: A</p>		<p>سوال نمبر 21 ڈرائیونگ کے دوران کارکنگ میٹر پر پھسلنا (سلپ کرنا) شروع کروانے اس کے اثر کو کیا کہتے ہیں؟</p> <p>(A) ہوزنگ (B) ویونگ (C) آکوا پلاننگ (D) فایڈنگ</p> <p>(A) ہوزنگ (B) ویونگ (C) آکوا پلاننگ (D) فایڈنگ</p> <p>جواب: C</p>
<p>سوال نمبر 56 برف کے موسم میں موٹر پر کیا کرنا چاہیے؟</p> <p>(A) ایک ڈور سے لگائی جائے (B) اسٹیرنگ کو تھوڑا تھوڑا اور تیز جھمانا چاہیے (C) کار کے کنٹرولرز کو آہستہ سے استعمال کرنا چاہیے (D) موٹر پر کار کو بریک سے آہستہ کرنا چاہیے</p> <p>جواب: C</p>		<p>سوال نمبر 22 دھند میں ڈرائیونگ کے دوران اگر چند صاف ہو جانے اور صاف نظر آنے لگتے کیا کرنا چاہیے؟</p> <p>(A) دھند والی بنیاں بجا دینی چاہیے (B) رفتار کم کر لی جائے (C) ریفر بند کر لیا جائے (D) اگر کوئی کھڑکی کھلی ہے تہہ بند کر دینی چاہیے</p> <p>جواب: A</p>
<p>سوال نمبر 57 ڈرائیونگ کے دوران وائپر اگر برف صاف نہ کریں تو کیا کرنا چاہیے؟</p> <p>(A) ڈیمسٹر (Demister) چلائیں تاکہ وینڈوسکرین ٹھنڈی ہو جائے (B) وینڈوسکرین کو ہاتھوں سے صاف کرنے کے لیے تیار رہیں (C) وینڈوسکرین دھوئے والا پانی (Washers) استعمال کریں (D) وینڈوسکرین واپس لے کر رکھیں</p> <p>جواب: B</p>		<p>سوال نمبر 23 دھند میں موٹر کے پارک کرنے کے سوائے اگر کوئی چارہ طریقہ نہیں تو کیا کرنا چاہیے؟</p> <p>(A) ہڈی لائٹس جلتی چھوڑ دینی چاہیے (B) دھند والی لائٹس جلتی چھوڑ دینی چاہیے (C) چھوٹی لائٹ (سائیز لائٹ) جلتی چھوڑ دینی چاہیے (D) خطر سے واپس لائٹس جلتی چھوڑ دینی چاہیے</p> <p>جواب: C</p>
<p>سوال نمبر 58 ڈرائیونگ کے دوران اگر برف پڑ رہی ہو تو کیا کرنا چاہیے؟</p> <p>(A) ہر ایک جلدی اور مٹیوں سے لگائی جائے (B) اسٹیرنگ کے تیزی سے جھمانے کے لیے تیار رہنا چاہیے (C) صرف سائیز لائٹس استعمال کرنی چاہیے (D) ہر ایک دور سے لگائی شروع کرنی چاہیے</p> <p>جواب: D</p>		<p>سوال نمبر 24 ڈرائیونگ کے دوران اگر سامنے سے سورج کی تیز روشنی آنے لگے اس روشنی کو ٹھیک سے کیسے دیکھیں؟</p> <p>(A) آنکھیں بند کر لیں (B) اندرونی شیشے جھنجھے کر لیں (C) سوپ والا چشمہ پہن لیا جائے (D) ایک طرف دیکھیں</p> <p>جواب: C</p>
<p>سوال نمبر 59 سار کے آئین کو ہر ایک کے طور پر کیسے استعمال کر سکتے ہیں؟</p> <p>(A) نیچا گھیر لیا کر (B) اسی طرح گھیر لیا کر (C) اونچا گھیر لیا کر (D) گھیر لیٹل میں رکھا کر</p> <p>جواب: A</p>		<p>سوال نمبر 25 رات کی ڈرائیونگ میں آجکڑ زیادہ احتیاط کیوں کرنی چاہیے؟</p> <p>(A) جتنی دور آپ دیکھ سکتے ہیں شایہ کارکنگ کرنی پڑے (B) کیونکہ ہڈوں زیادہ استعمال ہوتا ہے (C) کیونکہ لائٹس جھلانے کی وجہ سے نظری ختم ہو جاتی ہے (D) کیونکہ شایہ آپ لیٹ ہو جائیں</p> <p>جواب: A</p>
<p>سوال نمبر 60 سچے کھنے کے لیے سفر میں کئی آرام کرنے کا پورا گہرا سہانے کی ضرورت ہوتی ہے؟</p> <p>(A) ہاں! چار کھنے کے بعد آرام کا پورا گہرا سہانا چاہیے (B) ہاں! لگا تار سناپ کرنے کے ساتھ ساتھ سہانا ہوتا ہے (C) نہیں! سفر جلدی عمل کرنے پر تھکاوٹ کم ہوتی ہے (D) نہیں! صرف پیٹرول ڈلوٹانے کا وقت ہی بہتر ہے</p> <p>جواب: B</p>		<p>سوال نمبر 26 موٹر سے داخل ہونے کے بعد راہدہ عام طور پر کیا کرنا چاہیے؟</p> <p>(A) وورنگ (کراس) کرنے کی کوشش کرنی چاہیے (B) شیشے کو درست کرنا چاہیے (C) درمیانی لین میں پوزیشن لینے لگنی چاہیے (D) بائیں لین میں رکھی جائے</p> <p>جواب: D</p>
<p>سوال نمبر 61 ہر سکون رہنے کے لیے آخر اوقات کھڑا ہونا چاہیے اس کے علاوہ کیا کرنا چاہیے؟</p> <p>(A) آرام کرنا چاہیے (B) پیٹرول لینا چاہیے (C) کھانا کھا لینا چاہیے (D) کچھ لینا لینا چاہیے</p> <p>جواب: A</p>		<p>سوال نمبر 27 آپ دھند والے دن ڈرائیونگ کر رہے ہیں، پچھلا ڈرائیونگ کیا گاڑی کے پیچھے بائیں ذریعہ چلا رہا ہے کیا کرنا چاہیے؟</p> <p>(A) احتیاط سے ڈرائیونگ کرتے رہنا چاہیے (B) خطر سے واپس لائٹس جلا لینی چاہیے (C) جتنی جلدی ہو سکے اپنی گاڑی کھڑکی کر لینی چاہیے (D) گاڑی کی رفتار بڑھا کر آگے دور لے جانا چاہیے</p> <p>جواب: A</p>

<p>سوال نمبر 28۔ موڑوے پر کسی خطر سے بچنے کے لیے ایسا کیا کرنے کی رفتار کم کرنی پڑے گی کیا کرنا چاہیے؟</p> <p>(A) خطر سے واپس تیزیاں جلائی جائیں۔ (B) بڑی ہیڈ لائٹ جلائی جائیں۔ (C) پارن ہٹا کرنا چاہیے۔ (D) ہیڈ لائٹس بند کرنا چاہیے۔</p> <p>جواب: A</p>	<p>سوال نمبر 29۔ ڈرائیونگ کے دوران اگے ڈرائیونگ کو اور ایک کرنا چاہئے ہیں مگر آپ آگے نہیں دیکھ سکتے، کئی وقت ہی تو کیا کرنا چاہیے؟</p> <p>(A) آگے کا رجسٹر اور ایک کر رہی ہے اس کا پیچھا کریں۔ (B) آگے والی گاڑی کو پارن ہٹائیں اور ویکری کرے۔ (C) اور ایک کریں مگر آگے والی ڈرائیونگ کو ہیڈ لائٹس بند کریں۔ (D) اگر شک ہے اور ایک نہ کریں۔</p> <p>جواب: D</p>
<p>سوال نمبر 30۔ موڑوے کی اگلی اترنے والی مڑک سے پہلے گاڑی پوزیشن میں لین میں ہونی چاہیے؟</p> <p>(A) درمیانی لین میں۔ (B) بائیں لین میں۔ (C) پارڈوشولڈ پر۔ (D) کسی بھی لین میں۔</p> <p>جواب: B</p>	<p>سوال نمبر 31۔ آپ رات کو ہیڈ لائٹ (بھیم) کے ساتھ ڈرائیونگ کر رہے ہیں ایک ڈرائیونگ کو اور ایک کر رہا ہے آپ کو وقت لائن چمکانا (عدم کرنا) چاہیے؟</p> <p>(A) گزر جانے کے تھوڑی دیر بعد۔ (B) جوں ہی وہ اور ایک کرنا شروع کرے۔ (C) صرف اس صورت میں جب دوسرا ڈرائیونگ ہیڈ لائٹس بند کرے۔ (D) جوں ہی وہ آپ کو کر رہا ہے۔</p> <p>جواب: D</p>
<p>سوال نمبر 32۔ پہاڑی علاقہ میں ڈھلوان والی مڑک پر ڈرائیونگ کو اس طرح گاڑی کنٹرول کرنا چاہیے؟</p> <p>(A) صرف فٹ بریک کے ساتھ۔ (B) ہائی گیزر کے ساتھ۔ (C) ہائی گیزر اور فٹ بریک کے ساتھ۔ (D) فٹ بریک اور ہائی گیزر کے ساتھ۔</p> <p>جواب: C</p>	<p>سوال نمبر 33۔ کسی سائیکل کو اور ایک کرتے وقت اتنا وقت چھوڑیں جتنا کار کے لیے چھوڑتے ہیں۔ کیوں؟</p> <p>(A) سائیکل سوار شاید تھیل تبدیل کر جائے۔ (B) سائیکل سوار شاید سائیکل سے اتر جائے۔ (C) سائیکل سوار کا سائیکل شاید ڈگمگا جائے۔ (D) سائیکل سوار شاید دائیں طرف مڑ جائے۔</p> <p>جواب: C</p>
<p>سوال نمبر 34۔ مڑک میں پر کام ہو رہا ہے اس پر عارضی سپیڈ لٹ کا پورے نظر آئے تو کیا ضرور کرنا چاہیے؟</p> <p>(A) اس سپیڈ سے زیادہ نہیں کرنی چاہیے۔ (B) صرف زیادہ دیکھنے کے وقت عمل کرنا چاہیے۔ (C) جیسے صحت کی کئی اس عمل کرنا چاہیے۔ (D) صرف رات کو ہی عمل کرنا چاہیے۔</p> <p>جواب: A</p>	<p>سوال نمبر 35۔ ڈرائیونگ کرتے وقت اگر سورج سامنے ہوتے ہیں تو کس طرح ہم کر سکتے ہیں؟</p> <p>(A) ایک آنکھ بند کر لینی چاہیے۔ (B) اندرونی شیشہ نیچے کر لیا جائے۔ (C) کافی ٹیکہ پہن لینی چاہیے۔ (D) ایک طرف دیکھنا چاہیے۔</p> <p>جواب: C</p>
<p>سوال نمبر 36۔ گاڑی ریورس کرتے وقت سب سے زیادہ خطرہ کس وقت لاحق ہوتا ہے؟</p> <p>(A) جب ریورس عمل ہو جائے۔ (B) ریورس شروع کرنے سے پہلے۔ (C) دوسری مڑک میں داخل ہونے کے بعد۔ (D) جب آپ اسٹیریٹنگ ویل کو لیفٹ چمکتے ہیں اور اگلا حصہ دائیں طرف مڑ جاتا ہے۔</p> <p>جواب: D</p>	<p>سوال نمبر 37۔ ان میں سے کنہ حالات میں ہائڈروں میں ہوا معمول سے زیادہ رکھی چاہیے؟ (دو جواب دیں)</p> <p>(A) جب مڑک سپرٹی ہو۔ (B) جب مڑک لہا ہو اور تیز چلے کرنا ہے۔ (C) جب ہائڈروں ٹریڈ 2mm سے کم ہو جائے۔ (D) جب گاڑی پر وزن زیادہ ہو۔ (E) جب موسم سردی کا ہو۔</p> <p>جواب: B &amp; D</p>
<p>سوال نمبر 38۔ آپ کے مڑک پر دوسرا سپیڈ (ہیڈ لٹ) آدی کرنا کرنے کی غرض سے مڑک سے ہیں تو آپ کو کیا کرنا چاہیے؟</p> <p>(A) تھوڑا کرنا چاہیے کہ دوسرے گزرنے کا انتظار کریں گے۔ (B) تیز رفتار کر کے ان سے پہلے گزرنے چاہیے۔ (C) گاڑی تیز کر کے ان کو کرنا کرنے کا اشارہ کرنا چاہیے۔ (D) اسٹیڈی کریں کہ وہ شاید آپ کی رفتار کا اندازہ نہ لگ سکیں۔</p> <p>جواب: D</p>	<p>سوال نمبر 39۔ رات کو آپ مڑک میں ڈرائیونگ کرتے وقت مڑک کی دوسری طرف کا رنگ بڑی ہے آگے سے کوئی آہستہ چلنے والی گاڑی آجائے تو آپ کو کیا کرنا چاہیے؟</p> <p>(A) ڈرائیونگ کرتے رہنا چاہیے کیونکہ آپ کا فن ہوتا ہے (B) گاڑی آہستہ کر کے اس کو راستہ دینا چاہیے۔ (C) گاڑی تیز کر کے اس سے پہلے نکل جانا چاہیے۔ (D) گاڑی کے پیچھے کار روک لینی چاہیے۔</p> <p>جواب: B</p>
<p>سوال نمبر 40۔ ڈرائیونگ کرتے وقت اگر سورج سامنے ہوتے ہیں تو کس طرح ہم کر سکتے ہیں؟</p> <p>(A) ایک آنکھ بند کر لینی چاہیے۔ (B) اندرونی شیشہ نیچے کر لیا جائے۔ (C) کافی ٹیکہ پہن لینی چاہیے۔ (D) ایک طرف دیکھنا چاہیے۔</p> <p>جواب: C</p>	<p>سوال نمبر 41۔ پہاڑی علاقہ میں ڈھلوان والی مڑک پر ڈرائیونگ کو اس طرح گاڑی کنٹرول کرنا چاہیے؟</p> <p>(A) صرف فٹ بریک کے ساتھ۔ (B) ہائی گیزر کے ساتھ۔ (C) ہائی گیزر اور فٹ بریک کے ساتھ۔ (D) فٹ بریک اور ہائی گیزر کے ساتھ۔</p> <p>جواب: C</p>
<p>سوال نمبر 42۔ ان میں سے کنہ حالات میں ہائڈروں میں ہوا معمول سے زیادہ رکھی چاہیے؟ (دو جواب دیں)</p> <p>(A) جب مڑک سپرٹی ہو۔ (B) جب مڑک لہا ہو اور تیز چلے کرنا ہے۔ (C) جب ہائڈروں ٹریڈ 2mm سے کم ہو جائے۔ (D) جب گاڑی پر وزن زیادہ ہو۔ (E) جب موسم سردی کا ہو۔</p> <p>جواب: B &amp; D</p>	<p>سوال نمبر 43۔ کسی سائیکل کو اور ایک کرتے وقت اتنا وقت چھوڑیں جتنا کار کے لیے چھوڑتے ہیں۔ کیوں؟</p> <p>(A) سائیکل سوار شاید تھیل تبدیل کر جائے۔ (B) سائیکل سوار شاید سائیکل سے اتر جائے۔ (C) سائیکل سوار کا سائیکل شاید ڈگمگا جائے۔ (D) سائیکل سوار شاید دائیں طرف مڑ جائے۔</p> <p>جواب: C</p>

**Practical Test Evaluation performa (Car)**

Applicant Name \_\_\_\_\_

**1- Pre-vehicle checks:**

- Tire's inspection
- Fueling up
- Checking fluids

**2- In-vehicle checks**

- Mirrors
- Dashboard warning lights
- How to turn on and off headlights and parking (or running) lights
- How to turn on and off and to adjust windshield wipers
- Seat Belt

**3-starting vehicle:**

- Moving and steering vehicle smoothly and accurately
- Shift gears if using a manual transmission

**4-maintaining a visual scan inside and out:**

- Maintaining a visual scan inside and out

**5-stopping vehicle smoothly and precisely**

- Stopping vehicle smoothly and precisely

**6-Making accurate and safe turns both left and right, including signaling**

- Making accurate and safe turns both left and right, including signaling

**7-Backing up the car safely and straight:**

- Backing Up the car safely and straight

**8-Parking**

- 90 degree parking
- Parallel Parking

**9 Postures:**

- Posture (hand position, foot position, and proximity to steering wheel)

**10 Overall Controls:**

- Overall Control

**Practical Test Evaluation performa (Motor-Bike Only)**

Applicant Name \_\_\_\_\_

**1- Pre-vehicle checks:**

- Helmet
- Fueling up
- Tire's inspection

**2- In-vehicle checks**

- Mirrors

**3-starting vehicle:**

- Moving and steering vehicle smoothly and accurately
- Shift gears if using a manual transmission

**4-stopping vehicle smoothly and precisely**

- Stopping vehicle smoothly and precisely

**5-Making accurate and safe turns both left and right, including signaling**

- Making accurate and safe turns both left and right, including signaling

**6 Postures:**

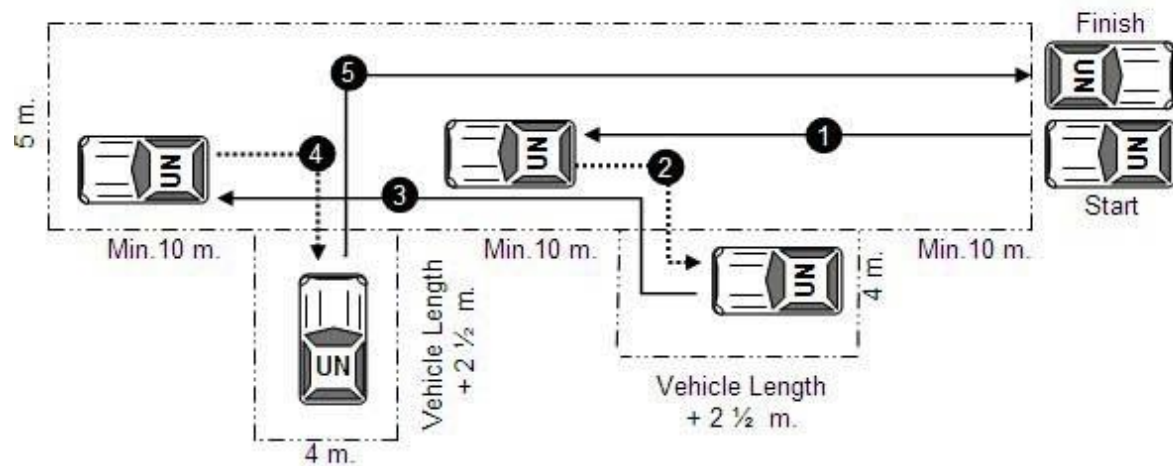
- Posture (hand position, foot position, and proximity to steering wheel)

**7 Overall Controls:**

- Overall Control



### UN Driver's Permit Handling Test Range (Right Hand Drive)



#### Legend:

- Forward movement
- ⋯→ Backward movement